



### Espace et géométrie

#### EG10. Identifier et construire des cercles.

##### Complète à l'aide du mot correct.

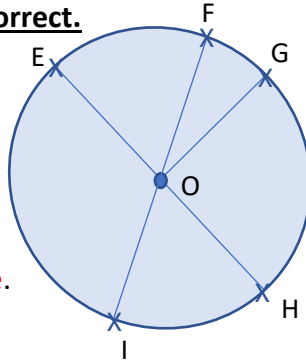
Le segment [OH] est un **rayon**.

Le segment [FO] est un **rayon**.

O est le **centre** du cercle.

Le segment [EH] est un **diamètre**.

O est le **milieu** du segment [EH].



Le segment [OG] est un **rayon**.

Le segment [FI] est un **diamètre**.

Le segment [OF] est un **rayon**.

F est un **point** du cercle.

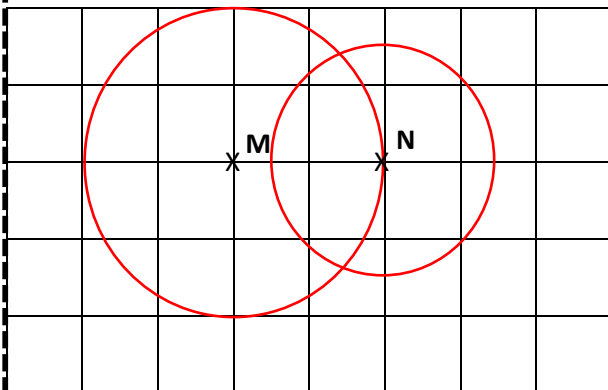
Ce qui se trouve à l'intérieur du cercle s'appelle un **disque**.

**Bravo tu as réussi !**

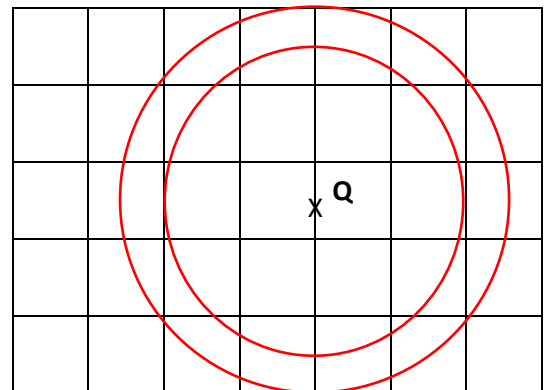
**Ou revois ta leçon**



Trace un cercle de centre M de 2 cm de rayon et un cercle de centre N de 1,5 cm de rayon.



Trace un cercle de centre Q de 2,5 cm de rayon et un cercle de centre Q de 2 cm de rayon.



**Bravo tu as réussi !**

**Ou revois ta leçon**



Retrouve la figure que chaque enfant a tracée.

Phil a aligné 3 cercles de rayons identiques.


C

Béa a aligné 3 cercles de rayons différents.


B

Maé a tracé 3 cercles concentriques.


A



A



B



C

**Bravo tu as réussi !**

**Ou revois ta leçon**



**Ce document PDF gratuit à imprimer est issu de la page :**

- [Evaluations par compétence 5eme Primaire Mathématiques : Géométrie Cercle et disque - PDF à imprimer](#)

**Le lien ci-dessous vous permet de télécharger cette évaluation avec un énoncé vierge**

- [Identifier et construire des cercles - Examen Evaluation progressive : 5eme Primaire](#)

**Les évaluations des catégories suivantes pourraient également vous intéresser :**

- [Evaluations par compétence 5eme Primaire Mathématiques : Géométrie Agrandissement, réduction - PDF à imprimer](#)
- [Evaluations par compétence 5eme Primaire Mathématiques : Géométrie Droites parallèles - PDF à imprimer](#)
- [Evaluations par compétence 5eme Primaire Mathématiques : Géométrie Droites perpendiculaires - PDF à imprimer](#)
- [Evaluations par compétence 5eme Primaire Mathématiques : Géométrie Polygones - PDF à imprimer](#)
- [Evaluations par compétence 5eme Primaire Mathématiques : Géométrie Se repérer, déplacer / plan, carte - PDF à imprimer](#)

**Besoin d'approfondir en : 5eme Primaire Mathématiques : Géométrie Cercle et disque**

- [Leçons 5eme Primaire Mathématiques : Géométrie Cercle et disque](#)
- [Exercices 5eme Primaire Mathématiques : Géométrie Cercle et disque](#)
- [Evaluations 5eme Primaire Mathématiques : Géométrie Cercle et disque](#)
- [Evaluations / QCM QUIZ 5eme Primaire Mathématiques : Géométrie Cercle et disque](#)
- [Vidéos pédagogiques 5eme Primaire Mathématiques : Géométrie Cercle et disque](#)