

# Chapitre 11 : Les angles

## Évaluation 1 : Notion d'angle : Corrigé

### Compétences évaluées

Comprendre la notion d'angle

Savoir nommer un angle

Utiliser un gabarit, comparer deux angles

Maîtrise  
insuffisante

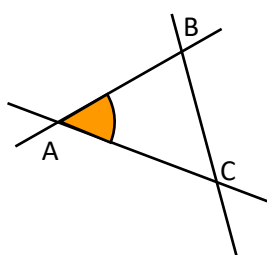
Maîtrise  
fragile

Maîtrise  
satisfaisante

Très bonne  
maîtrise

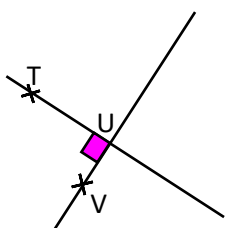
### Exercice N°1

Pour chaque angle colorié, préciser son sommet et ses côtés.



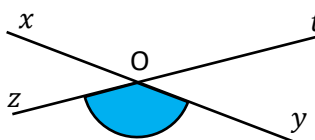
Sommet : A

Côtés : [AB) et [AC).



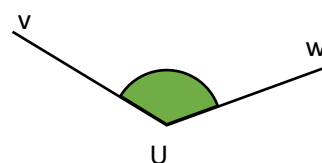
Sommet : U

Côtés : [UT) et [UV).



Sommet : O

Côtés : [Oz) et [Oy).



Sommet : U

Côtés : [Uv) et [Uw).

### Exercice N°2

Donner le nom de tous les angles coloriés sur la figure.

$\widehat{RMQ}$

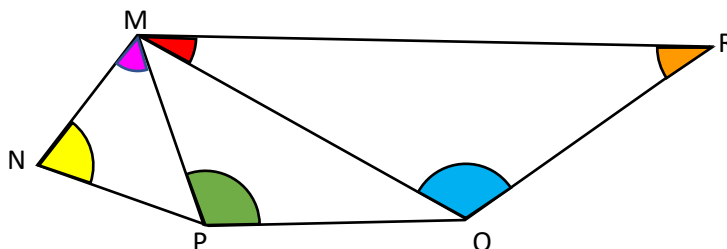
$\widehat{NMP}$

$\widehat{MPQ}$

$\widehat{MQR}$

$\widehat{QRM}$

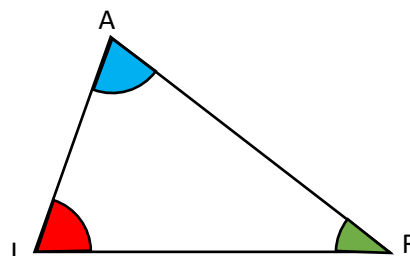
$\widehat{MNP}$



### Exercice N°3

Compléter chaque phrase qui se rapporte à la figure suivante.

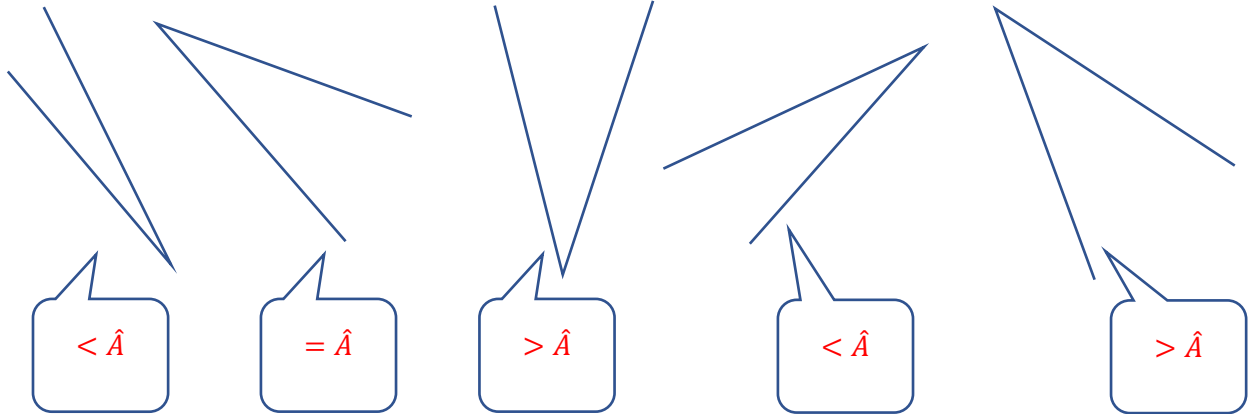
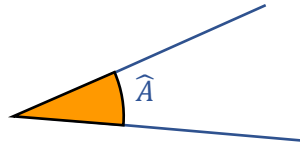
- L'angle  $\widehat{AIR}$  a pour sommet I et pour côtés [IA) et [IR).
- L'angle  $\widehat{ARI}$  a pour sommet R et pour côtés [RA) et [RI).
- L'angle  $\widehat{RAI}$  a pour sommet A et pour côtés [AI) et [AR).



#### Exercice N°4


À l'aide d'un papier calque, faire un gabarit avec l'angle  $\hat{A}$ . Trouver ensuite les angles plus petits que  $\hat{A}$ , égaux à  $\hat{A}$ , plus grands que  $\hat{A}$ .

On place le gabarit et on constate :



#### Exercice N°5

Observer et classer les angles ci-dessous du plus petit au plus grand.



Angle N°6 < Angle N°1 < Angle N°5 < Angle N°2 < Angle N°3 < Angle N°4

Ce document PDF gratuit à imprimer est issu de la page :

- [Evaluations 6eme Primaire Mathématiques : Grandeurs / Mesures Angles - PDF à imprimer](#)

Le lien ci-dessous vous permet de télécharger cette évaluation avec un énoncé vierge

- [Notion d'angle - Examen Evaluation avec la correction : 6eme Primaire](#)

Découvrez d'autres évaluations en : 6eme Primaire Mathématiques : Grandeurs / Mesures Angles

- [Angles particuliers - Examen Evaluation avec la correction : 6eme Primaire](#)
- [Mesurer un angle - Révisions - Examen Evaluation avec correction : 6eme Primaire](#)
- [Construire un angle - Révisions - Examen Evaluation avec correction : 6eme Primaire](#)
- [Égalité d'angles - Révisions - Examen Evaluation avec correction : 6eme Primaire](#)
- [Angles - Examen Contrôle de géométrie : 6eme Primaire](#)

Les évaluations des catégories suivantes pourraient également vous intéresser :

- [Evaluations 6eme Primaire Mathématiques : Grandeurs / Mesures Contenance, capacité litre - PDF à imprimer](#)
- [Evaluations 6eme Primaire Mathématiques : Grandeurs / Mesures Longueur cm, m, km - PDF à imprimer](#)
- [Evaluations 6eme Primaire Mathématiques : Grandeurs / Mesures Masse g, kg - PDF à imprimer](#)
- [Evaluations 6eme Primaire Mathématiques : Grandeurs / Mesures Temps et durée heure, minute, seconde - PDF à imprimer](#)
- [Evaluations 6eme Primaire Mathématiques : Grandeurs / Mesures Volume - PDF à imprimer](#)

Besoin d'approfondir en : 6eme Primaire Mathématiques : Grandeurs / Mesures Angles

- [Leçons 6eme Primaire Mathématiques : Grandeurs / Mesures Angles](#)
- [Exercices 6eme Primaire Mathématiques : Grandeurs / Mesures Angles](#)
- [Vidéos pédagogiques 6eme Primaire Mathématiques : Grandeurs / Mesures Angles](#)
- [Vidéos interactives 6eme Primaire Mathématiques : Grandeurs / Mesures Angles](#)
- [Séquence / Fiche de prep 6eme Primaire Mathématiques : Grandeurs / Mesures Angles](#)