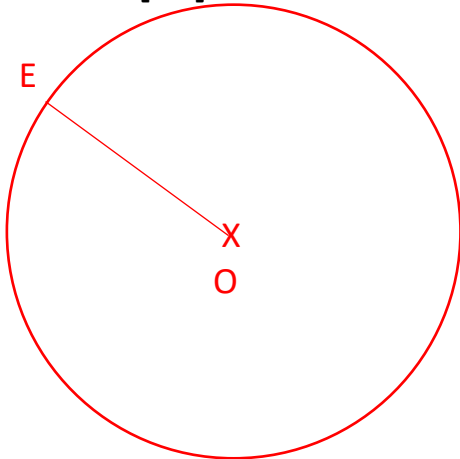




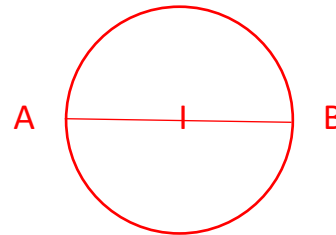
Tracer des cercles

① Trace les cercles demandés

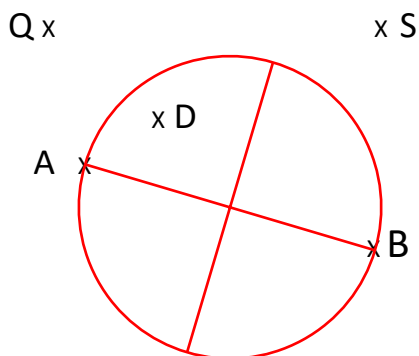
Trace un cercle de centre O et de rayon $[EO] = 3 \text{ cm}$



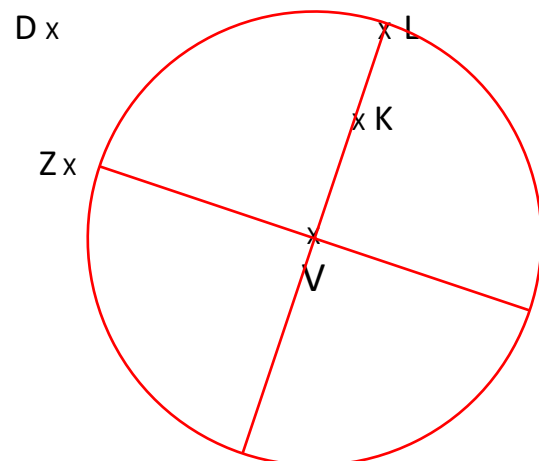
Trace un cercle de centre O et de diamètre $[AB] = 3 \text{ cm}$



Trace un cercle de diamètre $[AB]$

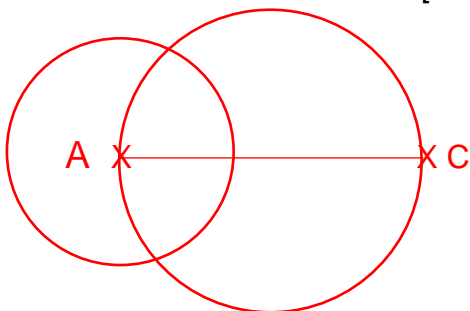


Trace un cercle de rayon $[LV]$

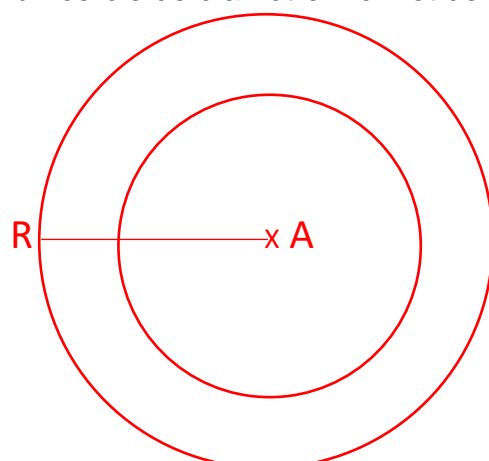


② Trace les programmes de construction ci-dessous

1. Trace un segment $[AC]$ de 4 cm.
2. Trace un cercle de centre A et de diamètre 3 cm.
3. Trace un cercle de diamètre $[AC]$.



1. Trace un segment $[AR]$ de 3 cm.
2. Trace un cercle de centre A et de rayon $[AR]$
3. Trace un cercle de diamètre 4 cm et de centre A.



Ce document PDF gratuit à imprimer est issu de la page :

- [Evaluations 4eme Primaire Mathématiques : Géométrie Cercle et disque - PDF à imprimer](#)

Le lien ci-dessous vous permet de télécharger cette évaluation avec un énoncé vierge

- [Bilan à imprimer sur tracer des cercles - Examen Evaluation avec la correction : 4eme Primaire](#)

Découvrez d'autres évaluations en : 4eme Primaire Mathématiques : Géométrie Cercle et disque

- [Evaluation avec le corrigé sur le vocabulaire relatif aux cercles - Bilan à imprimer : 4eme Primaire](#)
- [Tracer des cercles - Évaluation de géométrie : 4eme Primaire](#)
- [Identifier et connaître le vocabulaire relatif aux cercles et disques - Évaluation de géométrie : 4eme Primaire](#)
- [Tracer des cercles - Évaluation, bilan : 4eme Primaire](#)
- [Vocabulaire relatif aux cercles - Évaluation, bilan : 4eme Primaire](#)

Les évaluations des catégories suivantes pourraient également vous intéresser :

- [Evaluations 4eme Primaire Mathématiques : Géométrie Agrandissement, réduction - PDF à imprimer](#)
- [Evaluations 4eme Primaire Mathématiques : Géométrie Côté, sommet, angle - PDF à imprimer](#)
- [Evaluations 4eme Primaire Mathématiques : Géométrie Droites parallèles - PDF à imprimer](#)
- [Evaluations 4eme Primaire Mathématiques : Géométrie Droites perpendiculaires - PDF à imprimer](#)
- [Evaluations 4eme Primaire Mathématiques : Géométrie Point, droite et segment - PDF à imprimer](#)

Besoin d'approfondir en : 4eme Primaire Mathématiques : Géométrie Cercle et disque

- [Leçons 4eme Primaire Mathématiques : Géométrie Cercle et disque](#)
- [Exercices 4eme Primaire Mathématiques : Géométrie Cercle et disque](#)
- [Evaluations / compétences 4eme Primaire Mathématiques : Géométrie Cercle et disque](#)
- [Vidéos pédagogiques 4eme Primaire Mathématiques : Géométrie Cercle et disque](#)
- [Vidéos interactives 4eme Primaire Mathématiques : Géométrie Cercle et disque](#)