



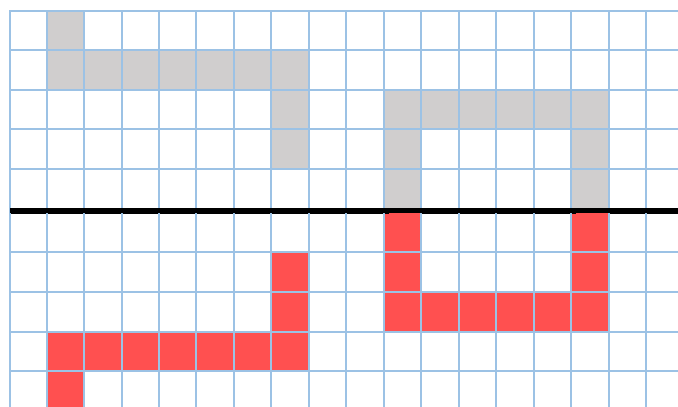
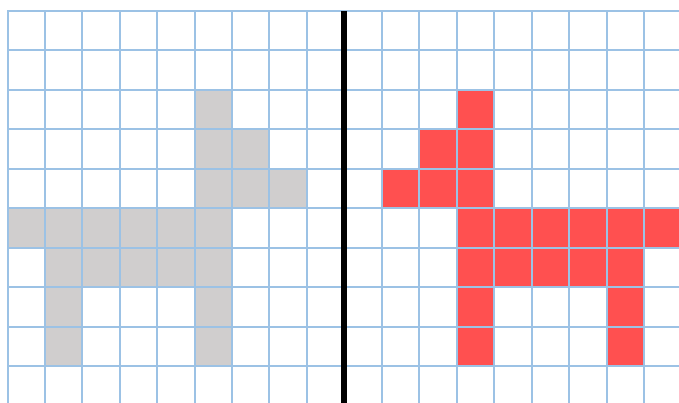
# Géométrie : Construire le symétrique d'une figure

## Evaluation

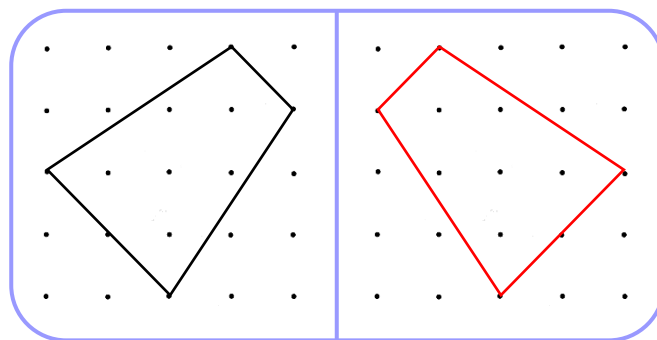
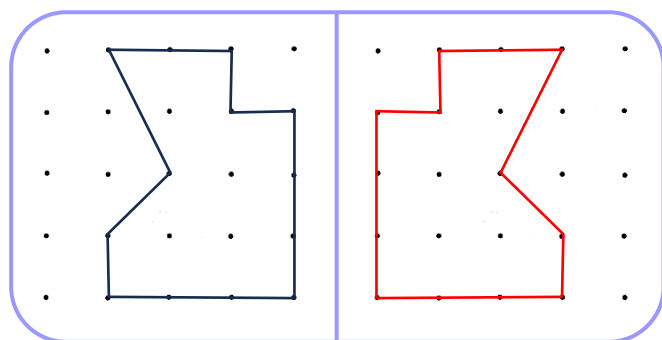
Correction

Evaluation des compétences	A	EA	NA
Tracer une figure symétrique par rapport à un axe avec l'aide d'un quadrillage.			

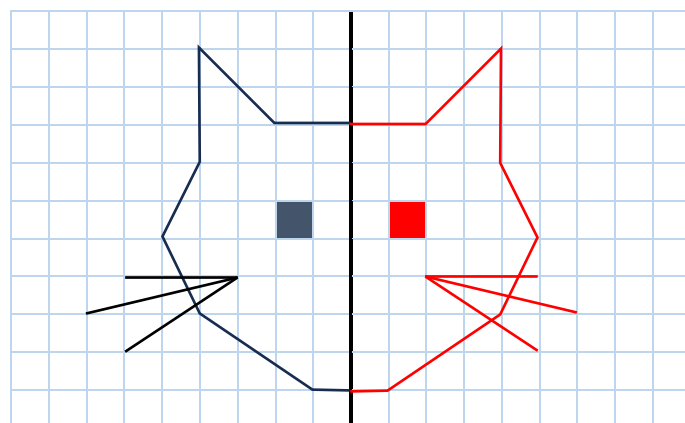
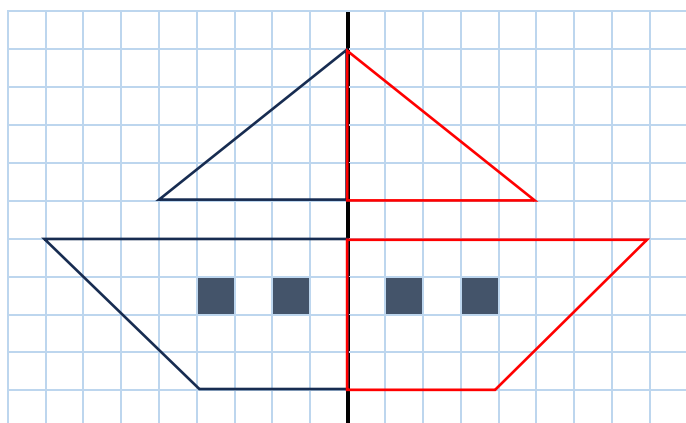
- 1 Colorie les cases pour obtenir la figure symétrique par rapport à l'axe noir.



- 2 Construis le symétrique de la figure à l'aide du papier pointé.



- 3 Complète les figures par symétrie axiale.



**Ce document PDF gratuit à imprimer est issu de la page :**

- [Evaluations 2eme Primaire Mathématiques : Géométrie Symétrie axiale Construire le symétrique - PDF à imprimer](#)

**Le lien ci-dessous vous permet de télécharger cette évaluation avec un énoncé vierge**

- [Construire le symétrique d'une figure - Évaluation de géométrie : 2eme Primaire](#)

**Les évaluations des catégories suivantes pourraient également vous intéresser :**

- [Evaluations 2eme Primaire Mathématiques : Géométrie Symétrie axiale Reconnaître des figures symétriques - PDF à imprimer](#)

**Besoin d'approfondir en : 2eme Primaire Mathématiques : Géométrie Symétrie axiale Construire le symétrique**

- [Leçons 2eme Primaire Mathématiques : Géométrie Symétrie axiale Construire le symétrique](#)
- [Exercices 2eme Primaire Mathématiques : Géométrie Symétrie axiale Construire le symétrique](#)