




Identifier et tracer des triangles

1 Relie les bonnes propositions

Triangle rectangle		3 côtés de même longueur
Triangle isocèle		Seulement un angle droit
Triangle quelconque		Un angle droit et 2 côtés de même longueur
Triangle équilatéral		2 côtés de même longueur
Triangle rectangle isocèle		Pas d'angle droit et pas de côtés de même longueur

2 Colorie les triangles en respectant les couleurs ci-dessous

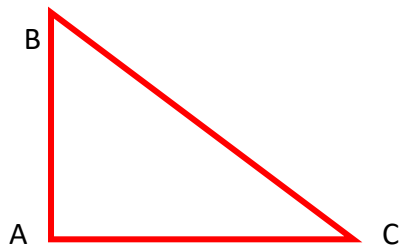
Quelconque	Équilatéral	Isocèle	Rectangle	Isocèle rectangle
Gris	Bleu	Rose	Vert	Jaune



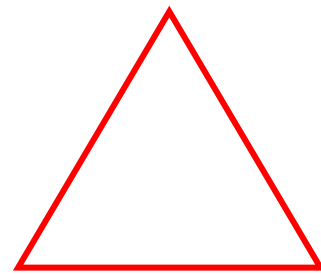
3 Trace les triangles demandés

1. Un triangle ABC rectangle en A tel que $AB = 3$ cm et $AC = 4$ cm
2. Un triangle équilatéral de 4 cm de côté
3. Un triangle ABC tel que $AB = 5$ cm, $BC = 3$ cm et $CB = 6$ cm
4. Un triangle rectangle isocèle de ton choix
5. Un triangle ABC isocèle en B tel que $AB = BC = 3$ cm
6. Un triangle GHI tel que $GH = 2$ cm, $HI = 5$ cm et $IG = 4$ cm

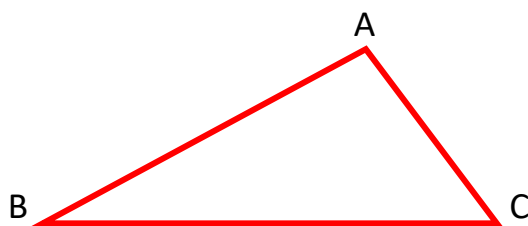
1- Un triangle ABC rectangle en A tel que $AB = 3$ cm et $AC = 4$ cm




2- Un triangle équilatéral de 4 cm de côté



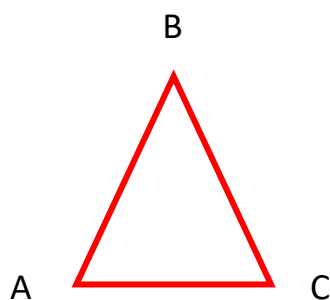
3- Un triangle ABC tel que $AB = 5$ cm, $AC = 3$ cm et $CB = 6$ cm



4- Un triangle rectangle isocèle de ton choix



5- Un triangle ABC isocèle en B tel que $AB = BC = 3$ cm



6- Un triangle GHI tel que $GH = 2$ cm, $HI = 5$ cm et $IG = 4$ cm



Ce document PDF gratuit à imprimer est issu de la page :

- [Evaluations 5eme Primaire Mathématiques : Géométrie Les triangles - PDF à imprimer](#)

Le lien ci-dessous vous permet de télécharger cette évaluation avec un énoncé vierge

- [Evaluation avec la correction - Identifier et tracer des triangles - Bilan à imprimer : 5eme Primaire](#)

Découvrez d'autres évaluations en : 5eme Primaire Mathématiques : Géométrie Les triangles

- [Identifier et décrire des triangles - Évaluation de géométrie : 5eme Primaire](#)
- [Identifier et tracer des triangles - Évaluation, bilan : 5eme Primaire](#)
- [Reconnaitre les différents triangles - Examen Evaluation - Bilan : 5eme Primaire](#)
- [Triangles - Bilan sur le triangle isocèle, équilatéral, quelconque... : 5eme Primaire](#)
- [Triangles - Examen Evaluation : 5eme Primaire](#)

Les évaluations des catégories suivantes pourraient également vous intéresser :

- [Evaluations 5eme Primaire Mathématiques : Géométrie Agrandissement, réduction - PDF à imprimer](#)
- [Evaluations 5eme Primaire Mathématiques : Géométrie Cercle et disque - PDF à imprimer](#)
- [Evaluations 5eme Primaire Mathématiques : Géométrie Côté, sommet, angle - PDF à imprimer](#)
- [Evaluations 5eme Primaire Mathématiques : Géométrie Droites parallèles - PDF à imprimer](#)
- [Evaluations 5eme Primaire Mathématiques : Géométrie Droites perpendiculaires - PDF à imprimer](#)

Besoin d'approfondir en : 5eme Primaire Mathématiques : Géométrie Les triangles

- [Leçons 5eme Primaire Mathématiques : Géométrie Les triangles](#)
- [Exercices 5eme Primaire Mathématiques : Géométrie Les triangles](#)
- [Evaluations / compétences 5eme Primaire Mathématiques : Géométrie Les triangles](#)
- [Evaluations / QCM QUIZ 5eme Primaire Mathématiques : Géométrie Les triangles](#)
- [Vidéos pédagogiques 5eme Primaire Mathématiques : Géométrie Les triangles](#)