



Géométrie : Repérer et tracer des droites, des segments et des points alignés

Evaluation

Correction

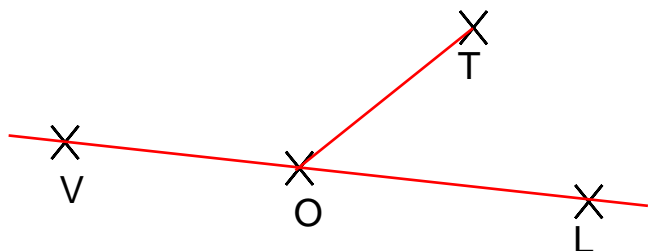
Evaluation des compétences	A	EA	NA
Reconnaître et tracer une droite.			
Reconnaître et tracer un segment.			
Reconnaître et tracer le milieu d'un segment.			

1 Repasse les droites en vert et les segments en bleu puis donne leur nom juste à côté.

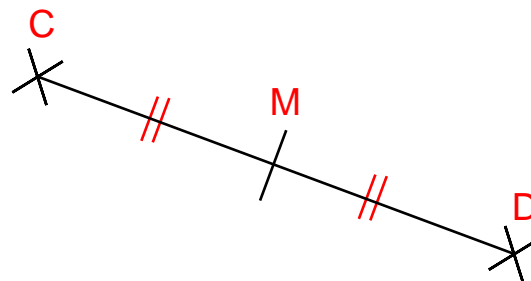
	(PG)		[HG]
	[TR]		(f)

2 Les points V, O et L sont alignés.

- Trace la droite (OL)
- Donne 2 autres façons de nommer la droite : **(VO) ou (OL)**
- Trace le segment [TO]



3 Le point M est le milieu du segment [CD]. Complète la figure.



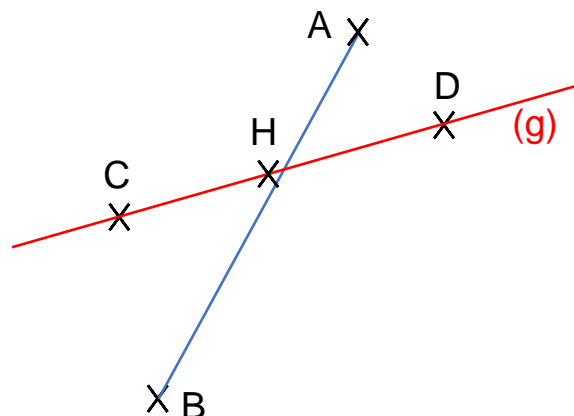
4 Trace en bleu le segment qui a pour extrémité A et B. Trace en rouge la droite (g) qui passe par les points C et D. Puis réponds aux questions.

Quel point est aligné avec les points C et D ?

C'est le point **H**.

Justifie ta réponse :

Le point **H** est aligné avec les points C et D car ils se trouvent sur la même droite : (g).



Ce document PDF gratuit à imprimer est issu de la page :

- [Evaluations 2eme Primaire Mathématiques : Géométrie Point, droite et segment - PDF à imprimer](#)

Le lien ci-dessous vous permet de télécharger cette évaluation avec un énoncé vierge

- [Repérer et tracer des droites, des segments et des points alignés - Évaluation : 2eme Primaire](#)

Découvrez d'autres évaluations en : 2eme Primaire Mathématiques : Géométrie Point, droite et segment

- [Evaluation avec le corrigé sur repérer et tracer des droites, des segments et des points alignés - Bilan à imprimer : 2eme Primaire](#)
- [Repérer et tracer des droites, des segments et des points alignés - Évaluation, bilan : 2eme Primaire](#)
- [Repérer et tracer des droites, des segments et des points alignés - Examen Evaluation avec la correction : 2eme Primaire](#)
- [Droites - Segments - Bilan à imprimer : 2eme Primaire](#)
- [Droites et segments - Examen Evaluation : 2eme Primaire](#)

Les évaluations des catégories suivantes pourraient également vous intéresser :

- [Evaluations 2eme Primaire Mathématiques : Géométrie Cercle et disque - PDF à imprimer](#)
- [Evaluations 2eme Primaire Mathématiques : Géométrie Côté, sommet, angle - PDF à imprimer](#)
- [Evaluations 2eme Primaire Mathématiques : Géométrie Polygones - PDF à imprimer](#)
- [Evaluations 2eme Primaire Mathématiques : Géométrie Quadrilatères - PDF à imprimer](#)
- [Evaluations 2eme Primaire Mathématiques : Géométrie Quadrillage / Plan - PDF à imprimer](#)

Besoin d'approfondir en : 2eme Primaire Mathématiques : Géométrie Point, droite et segment

- [Leçons 2eme Primaire Mathématiques : Géométrie Point, droite et segment](#)
- [Exercices 2eme Primaire Mathématiques : Géométrie Point, droite et segment](#)
- [Evaluations / QCM QUIZ 2eme Primaire Mathématiques : Géométrie Point, droite et segment](#)
- [Vidéos pédagogiques 2eme Primaire Mathématiques : Géométrie Point, droite et segment](#)
- [Séquence / Fiche de prep 2eme Primaire Mathématiques : Géométrie Point, droite et segment](#)