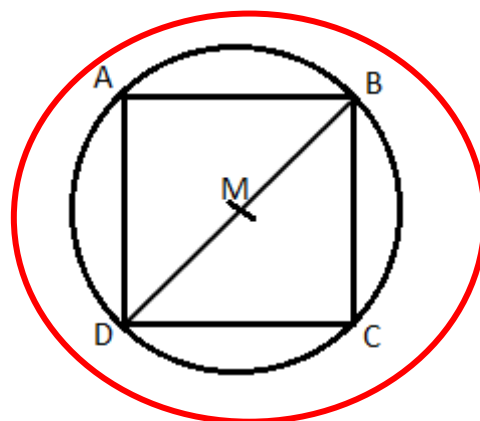
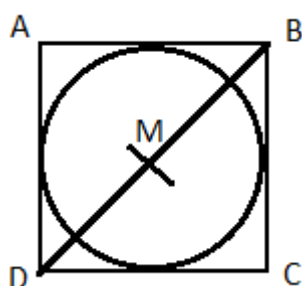
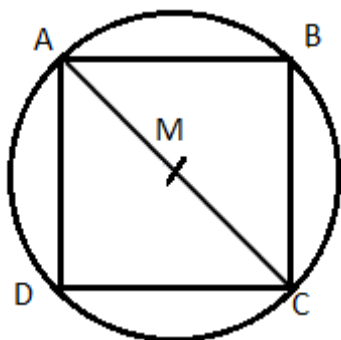


Construire une figure à partir d'un programme de construction

1 Quelle figure correspond à ce programme de construction ? Entoure la bonne réponse.

1. Trace un carré ABCD ; 2. Trace la diagonale [DB] et note son milieu M ; 3. Trace le cercle de centre M et rayon [BM] qui passe par les 4 sommets du carré.



2 Programme de construction : réponds aux questions et construis la figure.

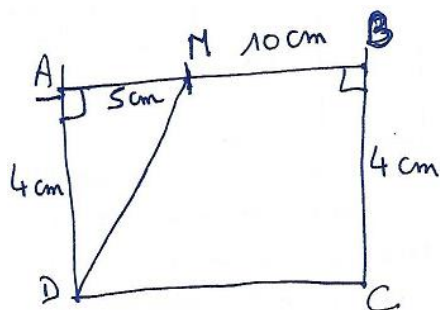
- Trace un segment [AB] de longueur 10 cm et place le point M milieu de [AB].
- Trace le segment [BC] qui forme un angle droit en B, tel que [BC] = 4 cm.
- Trace le segment [AD] qui forme un angle droit en A, tel que [AD] = 4 cm.
- Trace le segment [DC] et le segment [DM].

1. Lis attentivement le programme de construction ci-dessus.

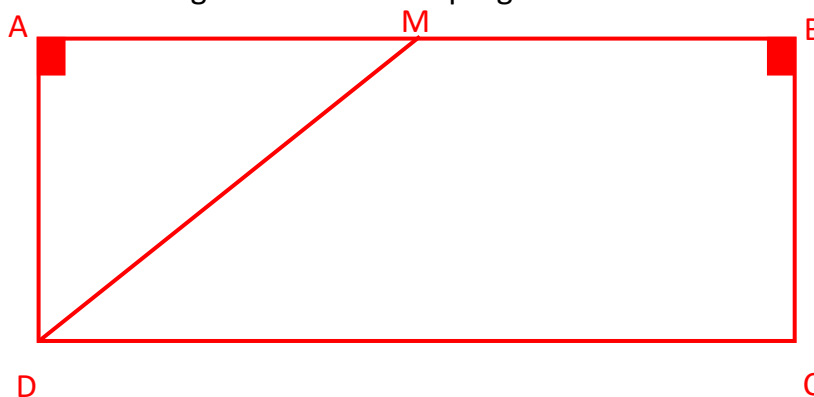
Cite le matériel nécessaire pour réaliser le programme :

- une règle graduée
- une équerre
- un crayon de papier
- une gomme

2. Trace la figure à main levée.



3. Construis la figure en suivant le programme donné ci-dessus.



4. La figure ABCD est un rectangle ; la figure AMD est un triangle rectangle.

Ce document PDF gratuit à imprimer est issu de la page :

- [Evaluations 3eme Primaire Mathématiques : Géométrie Programmes de construction - PDF à imprimer](#)

Le lien ci-dessous vous permet de télécharger cette évaluation avec un énoncé vierge

- [Evaluation et bilan sur construire une figure à partir d'un programme de construction : 3eme Primaire](#)

Les évaluations des catégories suivantes pourraient également vous intéresser :

- [Evaluations 3eme Primaire Mathématiques : Géométrie Cercle et disque - PDF à imprimer](#)
- [Evaluations 3eme Primaire Mathématiques : Géométrie Côté, sommet, angle - PDF à imprimer](#)
- [Evaluations 3eme Primaire Mathématiques : Géométrie Point, droite et segment - PDF à imprimer](#)
- [Evaluations 3eme Primaire Mathématiques : Géométrie Polygones - PDF à imprimer](#)
- [Evaluations 3eme Primaire Mathématiques : Géométrie Quadrilatères - PDF à imprimer](#)

Besoin d'approfondir en : 3eme Primaire Mathématiques : Géométrie Programmes de construction

- [Vidéos interactives 3eme Primaire Mathématiques : Géométrie Programmes de construction](#)