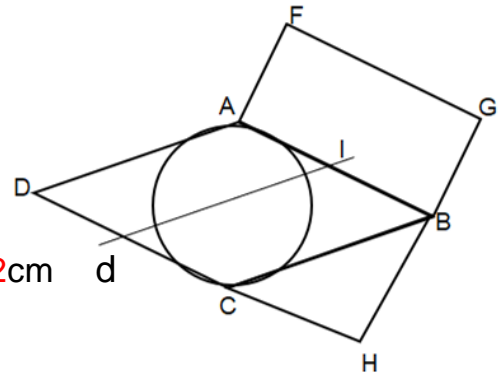


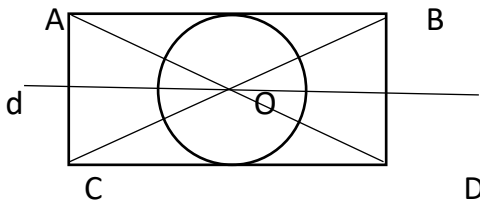
# Rédiger un programme de construction

## 1 Complète le programme de construction de cette figure.

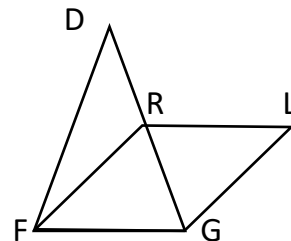
- 1- Trace un losange ABCD de côté 3 cm.
- 2- Trace un rectangle FGHA de largeur 1,5cm.
- 3- Place I milieu de [AB]
- 4- Trace une droite d // [BC] passant par I.
- 5- Trace un cercle de diamètre AC
- 6- Trace un triangle isocèle BHC tel que  $BH=HC=2\text{cm}$



## 2 Il y a des erreurs dans chaque programme de construction. Corrige -les



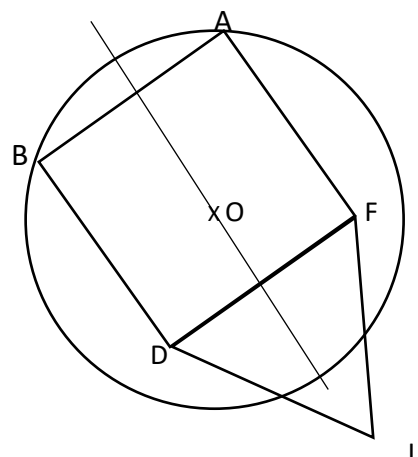
- 1-Trace un rectangle ABCD de longueur ..... **ABDC**.....  
4 cm et de largeur 2 cm.
- 2- Trace les diagonales [ad] et (bd)  
..... **[AD] et [CB]** .....
- 3-Place O le point d'intersection  
**Nomme O le point d'intersection des 2 diagonales.**
- 4-Trace le segment  $d \perp [CD]$  passant par O.  
.....la droite //



- 1- Trace un triangle équilatéral DGF tel que  
**Isocèle en D**  
 $DG=DF=3\text{cm}$  et  $FG=2\text{cm}$ .
- 2-Place R milieu (DG)  
**[DG]**
- 3- Trace un losange de côté 2 cm  
**Trace le losange RLGF**

## 3 Rédige le programme de construction de la figure ci-dessous.

- 1-Trace un cercle de centre O et de diamètre 5 cm.
- 2- Place les points A et B sur le cercle tel que  $AB=3\text{cm}$
- 3- Trace le carré AFDB
- 4- Trace une droite  $d \perp [AB]$  passant par O
- 5- Trace un triangle équilatéral FJD



**Ce document PDF gratuit à imprimer est issu de la page :**

- [Evaluations 5eme Primaire Mathématiques : Géométrie Programmes de construction - PDF à imprimer](#)

**Le lien ci-dessous vous permet de télécharger cette évaluation avec un énoncé vierge**

- [Evaluation et bilan sur rédiger ou compléter un programme de construction : 5eme Primaire](#)

**Découvrez d'autres évaluations en : 5eme Primaire Mathématiques : Géométrie Programmes de construction**

- [Evaluation et bilan sur construire une figure géométrique à partir d'un programme de construction : 5eme Primaire](#)

**Les évaluations des catégories suivantes pourraient également vous intéresser :**

- [Evaluations 5eme Primaire Mathématiques : Géométrie Agrandissement, réduction - PDF à imprimer](#)
- [Evaluations 5eme Primaire Mathématiques : Géométrie Cercle et disque - PDF à imprimer](#)
- [Evaluations 5eme Primaire Mathématiques : Géométrie Côté, sommet, angle - PDF à imprimer](#)
- [Evaluations 5eme Primaire Mathématiques : Géométrie Droites parallèles - PDF à imprimer](#)
- [Evaluations 5eme Primaire Mathématiques : Géométrie Droites perpendiculaires - PDF à imprimer](#)

**Besoin d'approfondir en : 5eme Primaire Mathématiques : Géométrie Programmes de construction**

- [Evaluations / compétences 5eme Primaire Mathématiques : Géométrie Programmes de construction](#)
- [Evaluations / QCM QUIZ 5eme Primaire Mathématiques : Géométrie Programmes de construction](#)
- [Vidéos pédagogiques 5eme Primaire Mathématiques : Géométrie Programmes de construction](#)
- [Vidéos interactives 5eme Primaire Mathématiques : Géométrie Programmes de construction](#)