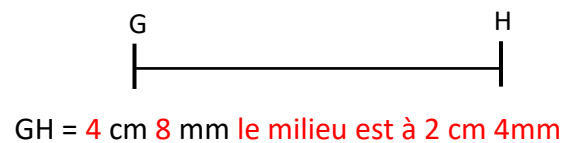
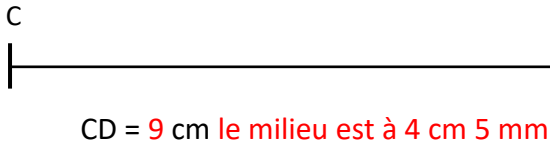
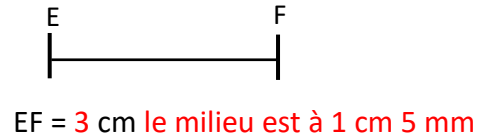
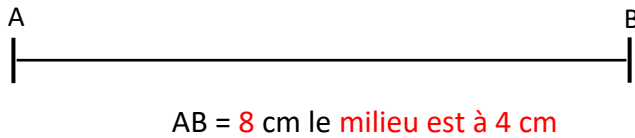


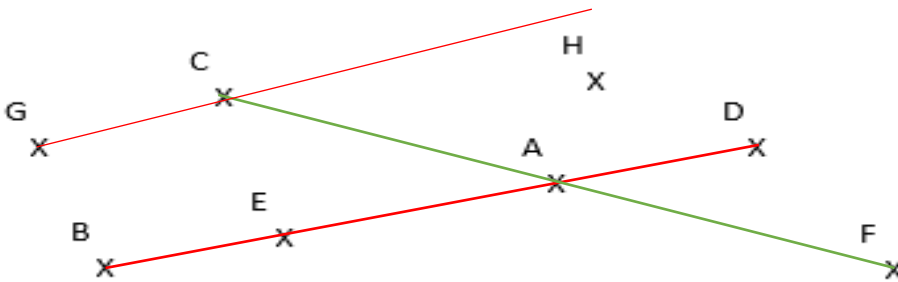


Le vocabulaire géométrique.

1 Mesure les différents segments et trouve leur milieu.



2 Observe et réponds aux questions

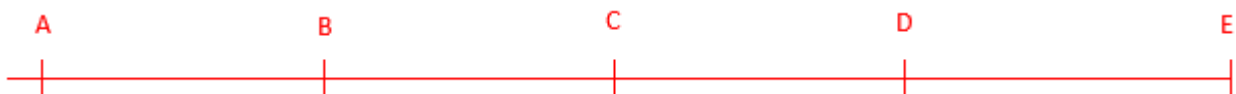


B ; E ; A ; D sont quatre points alignés.

Trace en vert le segment qui a pour extrémités C et F, quel point est aligné avec C et F ? A

G ; C et H sont-ils alignés. Justifie ta réponse. Non, car ils ne sont pas sur la même droite.

3 Suis les indications pour placer les points sur la droite et complète les réponses manquantes.



AB = 3 cm 9 mm

AC = 7 cm 9 mm

BD = 8 cm

DE = 4 cm 5 mm.

AE = 16 cm 4 mm

BC = 4 cm

AD = 11 cm 9 mm

4 Réponds par vrai ou faux :

Tous les points d'une droite sont alignés.	VRAI	FAUX
Un segment n'a qu'une seule extrémité.	VRAI	FAUX
Toutes les lignes sont des lignes droites.	VRAI	FAUX
5 points ne peuvent pas être alignés.	VRAI	FAUX

Ce document PDF gratuit à imprimer est issu de la page :

- [Evaluations 3eme Primaire Mathématiques : Géométrie Vocabulaire de géométrie - PDF à imprimer](#)

Le lien ci-dessous vous permet de télécharger cette évaluation avec un énoncé vierge

- [Evaluation et bilan avec le corrigé - Le vocabulaire de géométrie : 3eme Primaire](#)

Découvrez d'autres évaluations en : 3eme Primaire Mathématiques : Géométrie Vocabulaire de géométrie

- [Bilan à imprimer sur utiliser le vocabulaire des solides - Examen Evaluation avec la correction : 3eme Primaire](#)
- [Les outils de tracés - Examen Evaluation et bilan à imprimer avec le corrigé : 3eme Primaire](#)
- [Le vocabulaire géométrique - Évaluation de géométrie : 3eme Primaire](#)
- [Utiliser le vocabulaire des solides - Évaluation, bilan : 3eme Primaire](#)
- [Le vocabulaire de géométrie - Évaluation, bilan : 3eme Primaire](#)

Les évaluations des catégories suivantes pourraient également vous intéresser :

- [Evaluations 3eme Primaire Mathématiques : Géométrie Cercle et disque - PDF à imprimer](#)
- [Evaluations 3eme Primaire Mathématiques : Géométrie Côté, sommet, angle - PDF à imprimer](#)
- [Evaluations 3eme Primaire Mathématiques : Géométrie Point, droite et segment - PDF à imprimer](#)
- [Evaluations 3eme Primaire Mathématiques : Géométrie Polygones - PDF à imprimer](#)
- [Evaluations 3eme Primaire Mathématiques : Géométrie Quadrilatères - PDF à imprimer](#)

Besoin d'approfondir en : 3eme Primaire Mathématiques : Géométrie Vocabulaire de géométrie

- [Leçons 3eme Primaire Mathématiques : Géométrie Vocabulaire de géométrie](#)
- [Exercices 3eme Primaire Mathématiques : Géométrie Vocabulaire de géométrie](#)
- [Evaluations / compétences 3eme Primaire Mathématiques : Géométrie Vocabulaire de géométrie](#)