

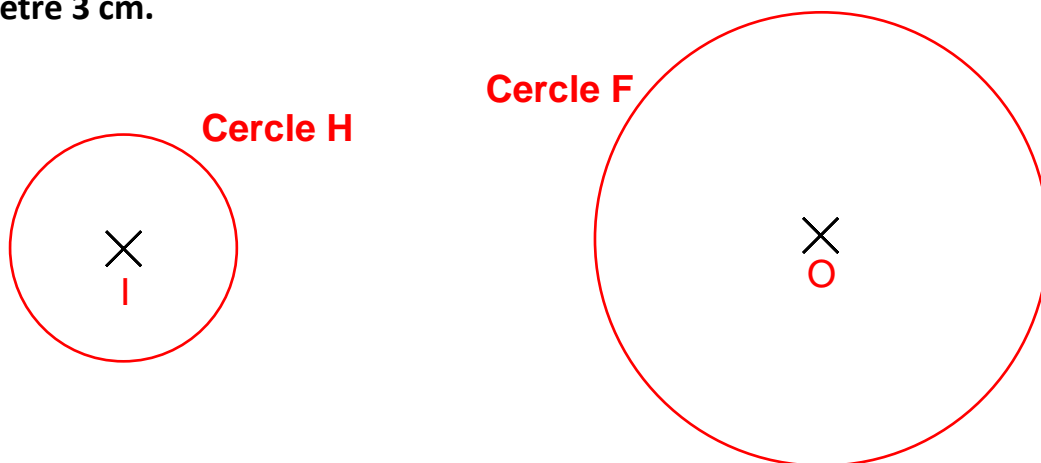


Géométrie : Tracer des cercles

Exercices

Correction


- 1 Trace le cercle F, de centre O et de rayon 3 cm et trace le cercle H, de centre I et de diamètre 3 cm.



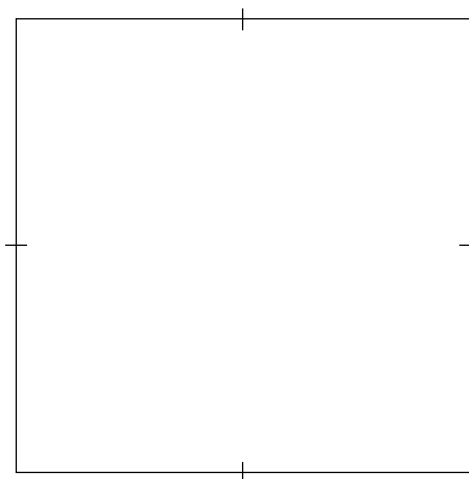
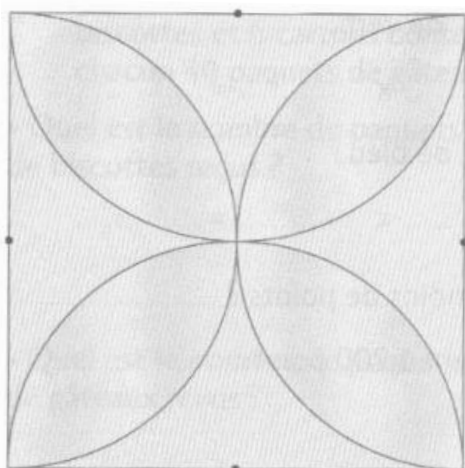
- 2 Dessine les 2 roues de ce vélo. Elles ont un diamètre de 5 cm. Puis dessine 6 rayons dans chacune d'entre elles.

Combien mesurent les rayons que tu as tracés ?

Ils mesurent la moitié de 5 cm, soit 2,5 cm.



- 3 Reproduis cette figure.



Trace un arc de cercle de 6 cm de diamètre à partir de chaque point.

Ce document PDF gratuit à imprimer est issu de la page :

- [Exercices 3eme Primaire Mathématiques : Géométrie Cercle et disque - PDF à imprimer](#)

Le lien ci-dessous vous permet de télécharger cet exercice avec un énoncé vierge

- [Tracer des cercles - Exercices de géométrie : 3eme Primaire](#)

Découvrez d'autres exercices en : 3eme Primaire Mathématiques : Géométrie Cercle et disque

- [Identifier et connaître le vocabulaire relatif aux cercles - Exercices de géométrie : 3eme Primaire](#)
- [Identifier et tracer des cercles - Exercices avec les corrigés : 3eme Primaire](#)
- [Identifier et décrire les cercles - Exercices, révisions : 3eme Primaire](#)
- [Tracer des cercles - Exercices, révisions : 3eme Primaire](#)
- [Cercle - Exercices corrigés - Géométrie : 3eme Primaire](#)

Les exercices des catégories suivantes pourraient également vous intéresser :

- [Exercices 3eme Primaire Mathématiques : Géométrie Côté, sommet, angle - PDF à imprimer](#)
- [Exercices 3eme Primaire Mathématiques : Géométrie Droites parallèles - PDF à imprimer](#)
- [Exercices 3eme Primaire Mathématiques : Géométrie Droites perpendiculaires - PDF à imprimer](#)
- [Exercices 3eme Primaire Mathématiques : Géométrie Point, droite et segment - PDF à imprimer](#)
- [Exercices 3eme Primaire Mathématiques : Géométrie Polygones - PDF à imprimer](#)

Besoin d'approfondir en : 3eme Primaire Mathématiques : Géométrie Cercle et disque

- [Leçons 3eme Primaire Mathématiques : Géométrie Cercle et disque](#)
- [Evaluations 3eme Primaire Mathématiques : Géométrie Cercle et disque](#)
- [Evaluations / compétences 3eme Primaire Mathématiques : Géométrie Cercle et disque](#)
- [Evaluations / QCM QUIZ 3eme Primaire Mathématiques : Géométrie Cercle et disque](#)
- [Vidéos pédagogiques 3eme Primaire Mathématiques : Géométrie Cercle et disque](#)