



# Nombres et calcul - Exercices

Comparer des nombres  $< 20$

Correction

① Ecris le nombre de billes et entoure la plus petite collection de billes à chaque fois.



5




7




6




4



4



3



6



7

② Note le nombre de billes en-dessous de chaque pot et entoure le pot qui correspond à la plus grande collection de billes.



7



8

Complète avec ces nombres :

8

> (est plus grand que)

7

③ Complète avec < (plus petit que) ou > (plus grand que).

|          |          |         |          |
|----------|----------|---------|----------|
| $2 < 8$  | $17 > 4$ | $3 > 1$ | $5 < 15$ |
| $11 > 6$ | $3 < 10$ | $6 > 2$ | $0 < 8$  |

Ce document PDF gratuit à imprimer est issu de la page :

- [Exercices 1ere Primaire Mathématiques : Numération Nombres entiers](#)

Le lien ci-dessous vous permet de télécharger cet exercice avec un énoncé vierge

- [Comparer des nombres inférieurs à 20 - Exercices corrigés : 1ere Primaire](#)

Les exercices des catégories suivantes pourraient également vous intéresser :

- [Exercices 1ere Primaire Mathématiques : Numération Nombres entiers](#)
- [Exercices 1ere Primaire Mathématiques : Numération Nombres entiers](#)

Besoin d'approfondir en : 1ere Primaire Mathématiques : Numération Nombres entiers &lt; 100 Comparer / ra

- [Leçons 1ere Primaire Mathématiques : Numération Nombres entiers](#)
- [Séquence / Fiche de prep 1ere Primaire Mathématiques : Numération Nombres entiers](#)