

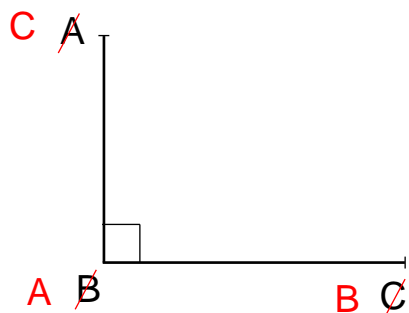


# Géométrie : Construire un angle droit à l'aide d'une équerre

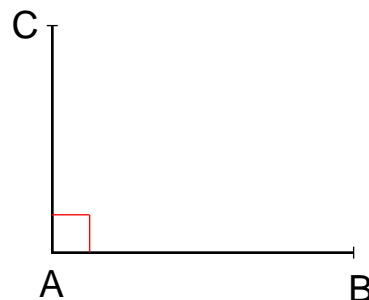
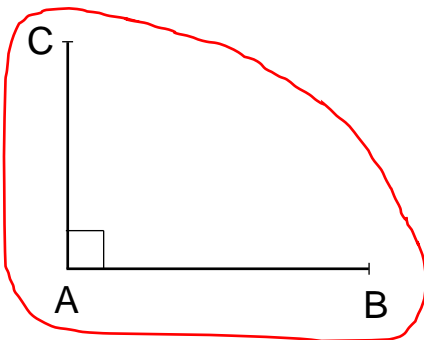
## Exercices

### Correction

- 1 Un élève doit construire un angle droit  $\widehat{ABC}$  rectangle en A tel que  $AB = 4$  cm et  $AC = 3$  cm. Indique laquelle des figures ci-dessous est juste en l'entourant. Corrige les autres figures.

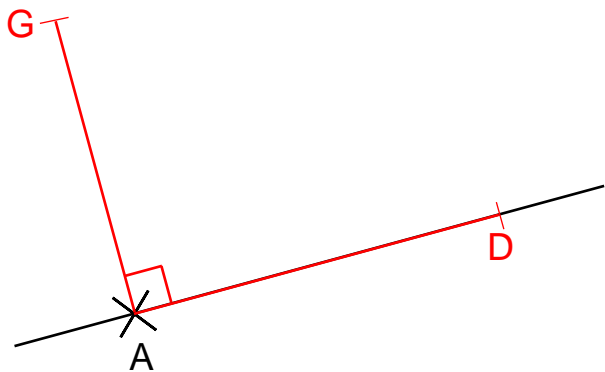


L'élève a inversé les lettres.  
L'angle est droit en A.

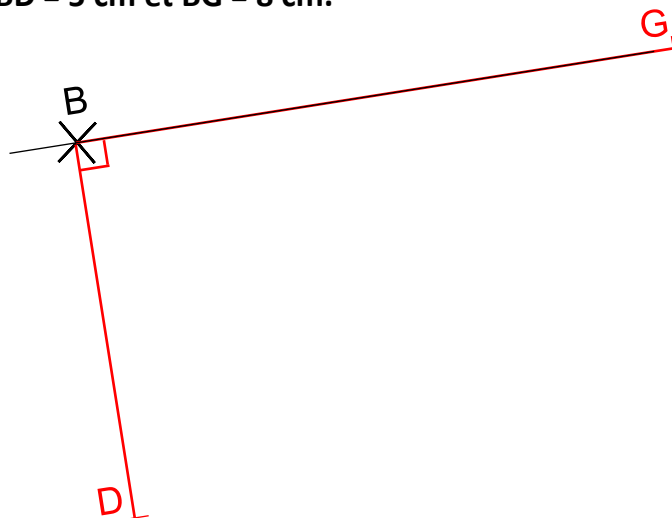


L'élève a oublié de marquer son angle droit.

- 2 Trace un angle droit à partir du point A tel que  $AD = 5$  cm et  $AG = 4$  cm.



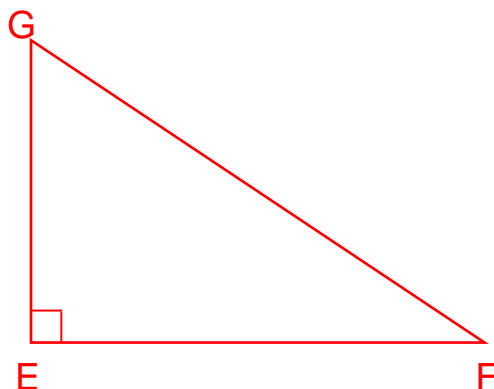
- Trace un angle droit à partir du point B tel que  $BD = 5$  cm et  $BG = 8$  cm.



- 3 Suis le programme de construction suivant.

1. Trace le segment  $[EF]$  tel que  $EF = 6$  cm.
2. Trace l'angle droit qui a pour sommet E tel que  $[EG] = 4$  cm.
3. Trace le segment  $[FG]$ .

Mesure-le avec ta règle. Quelle longueur fait-il ?  $FG = 7,2$  cm.



**Ce document PDF gratuit à imprimer est issu de la page :**

- [Exercices 4eme Primaire Mathématiques : Géométrie Côté, sommet, angle - PDF à imprimer](#)

**Le lien ci-dessous vous permet de télécharger cet exercice avec un énoncé vierge**

- [Construire un angle droit à l'aide d'une équerre - Exercices de géométrie : 4eme Primaire](#)

**Découvrez d'autres exercices en : 4eme Primaire Mathématiques : Géométrie Côté, sommet, angle**

- [Identifier et classer des angles à l'aide d'une équerre - Exercices de géométrie : 4eme Primaire](#)

**Les exercices des catégories suivantes pourraient également vous intéresser :**

- [Exercices 4eme Primaire Mathématiques : Géométrie Agrandissement, réduction - PDF à imprimer](#)
- [Exercices 4eme Primaire Mathématiques : Géométrie Cercle et disque - PDF à imprimer](#)
- [Exercices 4eme Primaire Mathématiques : Géométrie Droites parallèles - PDF à imprimer](#)
- [Exercices 4eme Primaire Mathématiques : Géométrie Droites perpendiculaires - PDF à imprimer](#)
- [Exercices 4eme Primaire Mathématiques : Géométrie Point, droite et segment - PDF à imprimer](#)

**Besoin d'approfondir en : 4eme Primaire Mathématiques : Géométrie Côté, sommet, angle**

- [Leçons 4eme Primaire Mathématiques : Géométrie Côté, sommet, angle](#)
- [Evaluations 4eme Primaire Mathématiques : Géométrie Côté, sommet, angle](#)