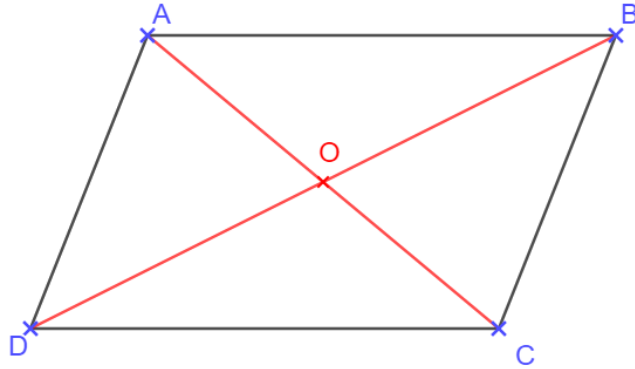


Chapitre 15 : Les parallélogrammes

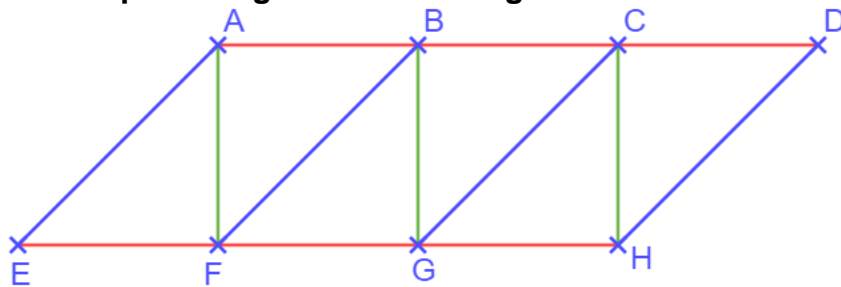
Exercices 1 : Définition du parallélogramme : Corrigé

1. Compléter ces phrases, qui décrivent le parallélogramme ABCD ci-dessous :



- $[AB]$ et $[BC]$ sont des : côtés consécutifs
- $[AB]$ et $[CD]$ sont des : côtés opposés
- A et B sont des : sommets consécutifs
- B et D sont des : sommets opposés
- \widehat{ABC} et \widehat{BCD} sont des : angles consécutifs
- \widehat{BCD} et \widehat{BAD} sont des : angles opposés
- $[AC]$ et $[BD]$ sont les : diagonales
- O est le : centre du parallélogramme

2. Dans la figure ci-dessous on a colorié les segments parallèles de la même couleur. Donner le nom de tous les parallélogrammes de la figure.



Il y a en tout 9 parallélogrammes qui sont :

ABFE

ACGE

ADHE

BCGF

BDHF

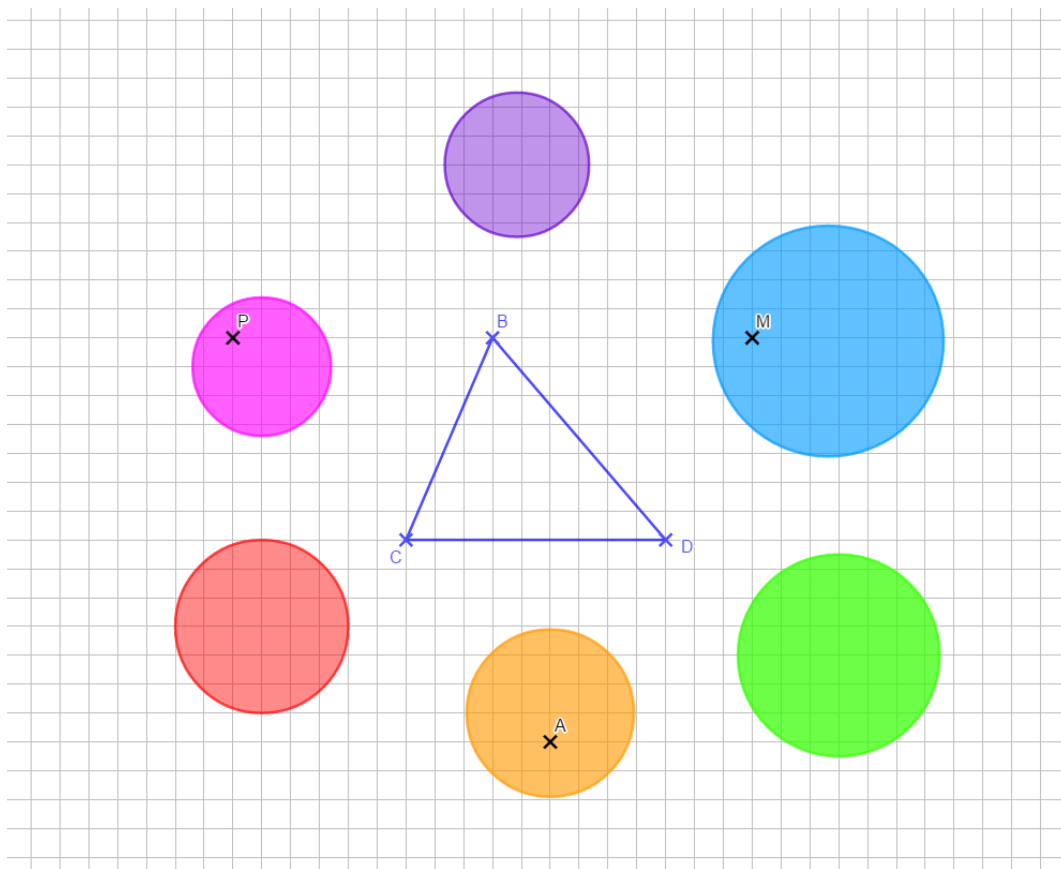
CDHG

ABGF

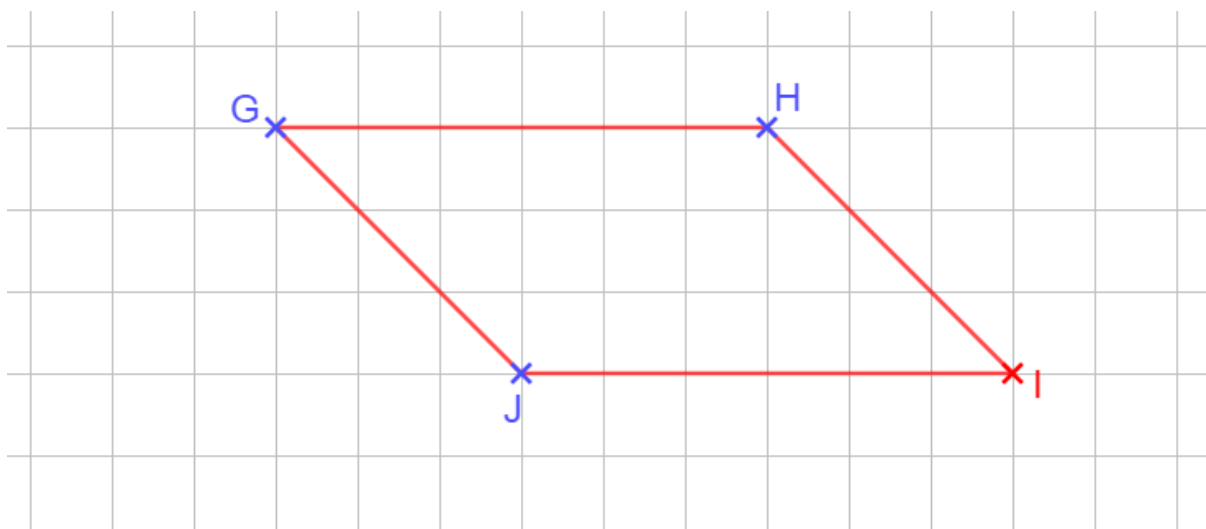
ACHF

BCHG

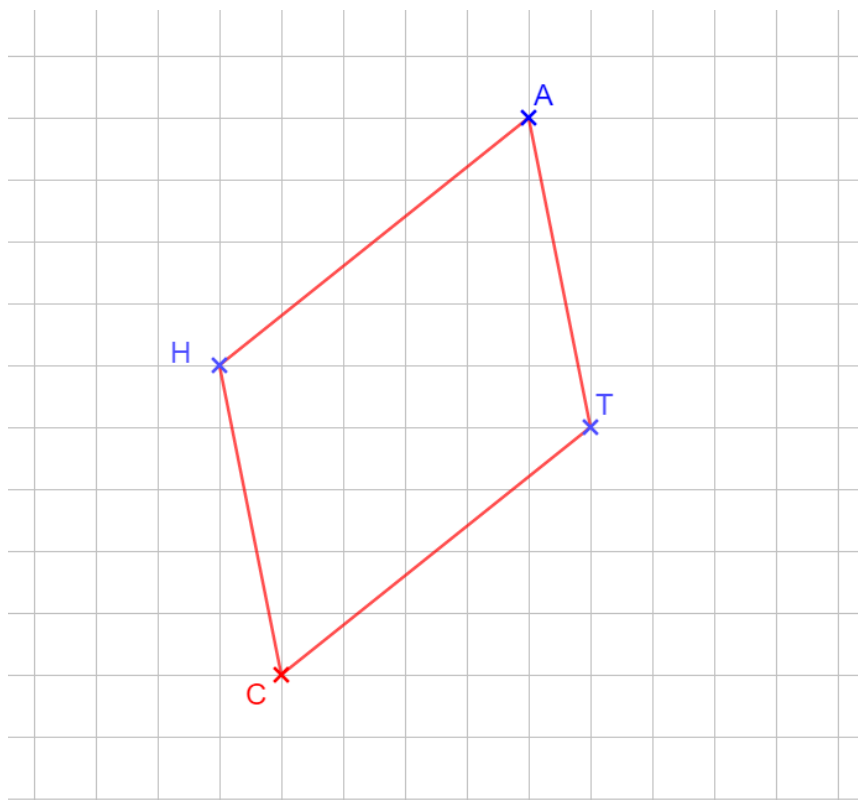
3. Les quadrilatères DBCA, CBMD et CDBP sont des parallélogrammes. Dire dans quelle zone se trouvent chacun des points A, M et P.



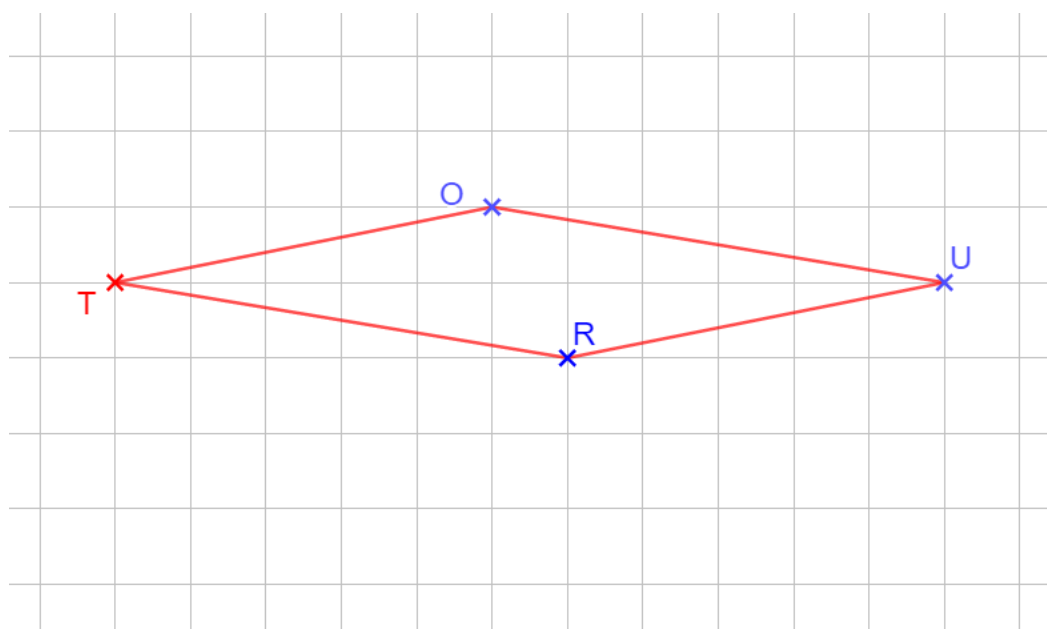
4. À l'aide du quadrillage placer le point I pour que GHIJ soit un parallélogramme.



5. À l'aide du quadrillage place le point C pour que CHAT soit un parallélogramme.



6. À l'aide du quadrillage place le point U pour que TOUR soit un parallélogramme.



Ce document PDF gratuit à imprimer est issu de la page :

- [Exercices 1ere Secondaire Mathématiques : Géométrie Les parallélogrammes Définition du parallélogramme - PDF à imprimer](#)

Le lien ci-dessous vous permet de télécharger cet exercice avec un énoncé vierge

- [Définition du parallélogramme - Exercices avec les corrections : 1ere Secondaire](#)

Les exercices des catégories suivantes pourraient également vous intéresser :

- [Exercices 1ere Secondaire Mathématiques : Géométrie Les parallélogrammes Les parallélogrammes particuliers - PDF à imprimer](#)

- [Exercices 1ere Secondaire Mathématiques : Géométrie Les parallélogrammes Propriétés du parallélogramme - PDF à imprimer](#)

- [Exercices 1ere Secondaire Mathématiques : Géométrie Les parallélogrammes Reconnaître un parallélogramme particulier - PDF à imprimer](#)

- [Exercices 1ere Secondaire Mathématiques : Géométrie Les parallélogrammes Reconnaître un parallélogramme - PDF à imprimer](#)

Besoin d'approfondir en : 1ere Secondaire Mathématiques : Géométrie Les parallélogrammes Définition du p

- [Cours 1ere Secondaire Mathématiques : Géométrie Les parallélogrammes Définition du parallélogramme](#)

- [Evaluations 1ere Secondaire Mathématiques : Géométrie Les parallélogrammes Définition du parallélogramme](#)

- [Séquence / Fiche de prep 1ere Secondaire Mathématiques : Géométrie Les parallélogrammes Définition du parallélogramme](#)