

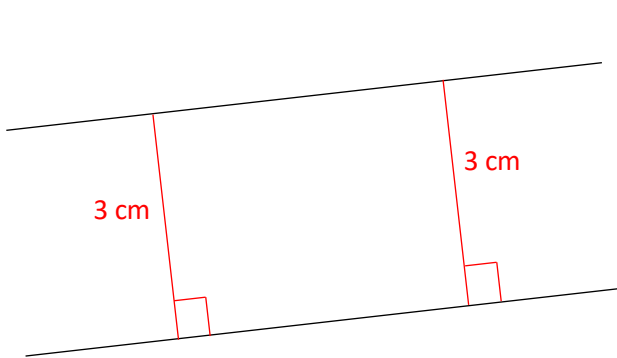


Géométrie : Identifier et tracer des droites parallèles

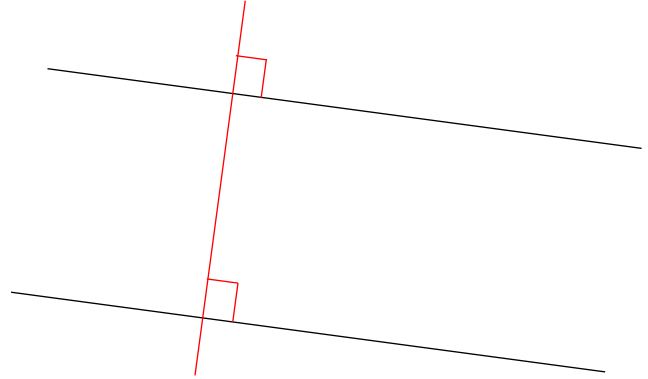
Exercices

Correction

- 1 En utilisant les deux méthodes de la leçon et en laissant tes traits de construction, vérifie que les droites sont parallèles et complète les phrases ci-dessous.

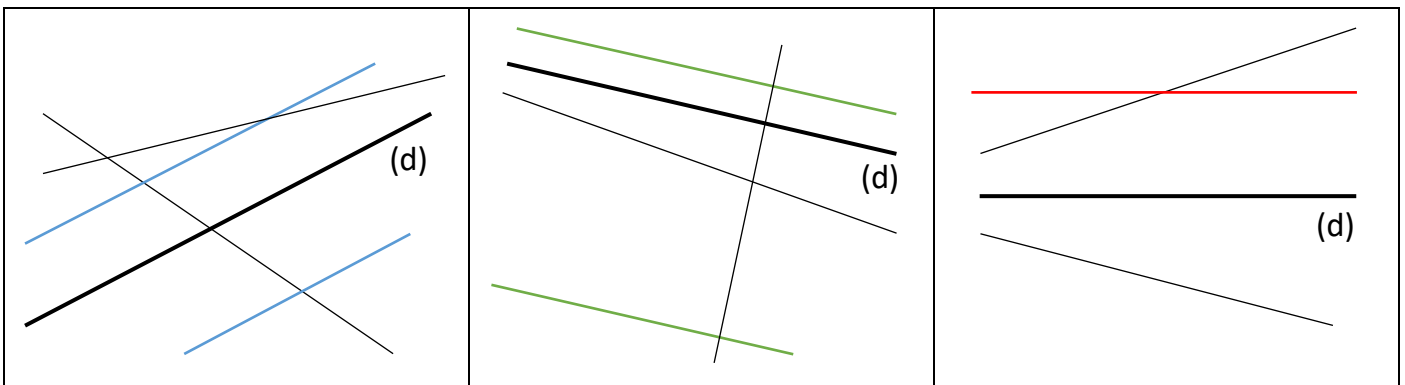


Les deux droites sont parallèles car leur écartement est constant et mesure 3 cm.

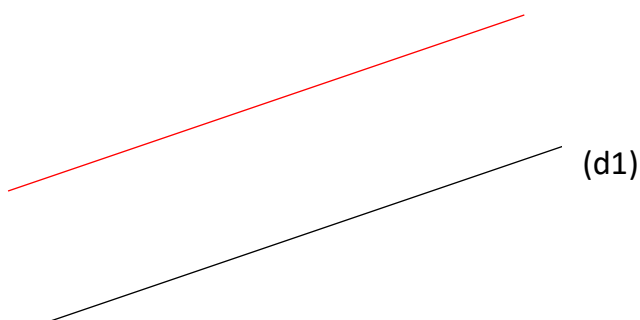


Les deux droites sont parallèles car elles sont **perpendiculaires** à une même droite.

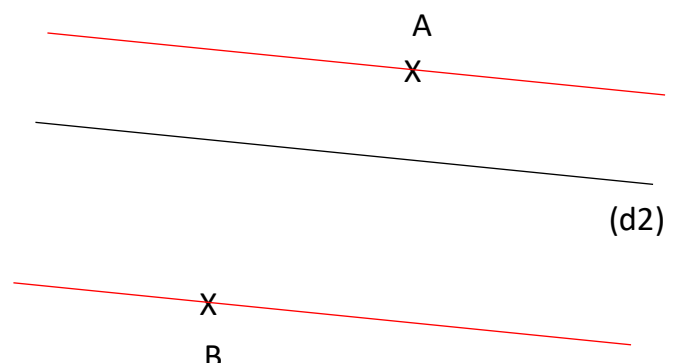
- 2 Colorie les droites parallèles à (d).



- 3 Trace la droite (d2) parallèle à (d1).



Trace les droites parallèles à (d2), une passant par A et l'autre par B.



Ce document PDF gratuit à imprimer est issu de la page :

- [Exercices 4eme Primaire Mathématiques : Géométrie Droites parallèles - PDF à imprimer](#)

Le lien ci-dessous vous permet de télécharger cet exercice avec un énoncé vierge

- [Identifier et tracer des droites parallèles - Exercices : 4eme Primaire](#)

Découvrez d'autres exercices en : 4eme Primaire Mathématiques : Géométrie Droites parallèles

- [Identifier et tracer des droites parallèles - Exercices, révisions : 4eme Primaire](#)
- [J'identifie et trace des droites parallèles - Exercices avec correction : 4eme Primaire](#)
- [Tracer et reconnaître les droites parallèles et perpendiculaires - Révisions : 4eme Primaire](#)
- [Reconnaître les droites parallèles et les droites perpendiculaires - Tracer - Exercices : 4eme Primaire](#)
- [Droites parallèles - Exercices à imprimer : 4eme Primaire](#)

Les exercices des catégories suivantes pourraient également vous intéresser :

- [Exercices 4eme Primaire Mathématiques : Géométrie Agrandissement, réduction - PDF à imprimer](#)
- [Exercices 4eme Primaire Mathématiques : Géométrie Cercle et disque - PDF à imprimer](#)
- [Exercices 4eme Primaire Mathématiques : Géométrie Côté, sommet, angle - PDF à imprimer](#)
- [Exercices 4eme Primaire Mathématiques : Géométrie Droites perpendiculaires - PDF à imprimer](#)
- [Exercices 4eme Primaire Mathématiques : Géométrie Point, droite et segment - PDF à imprimer](#)

Besoin d'approfondir en : 4eme Primaire Mathématiques : Géométrie Droites parallèles

- [Leçons 4eme Primaire Mathématiques : Géométrie Droites parallèles](#)
- [Evaluations 4eme Primaire Mathématiques : Géométrie Droites parallèles](#)
- [Evaluations / compétences 4eme Primaire Mathématiques : Géométrie Droites parallèles](#)
- [Vidéos pédagogiques 4eme Primaire Mathématiques : Géométrie Droites parallèles](#)
- [Vidéos interactives 4eme Primaire Mathématiques : Géométrie Droites parallèles](#)