

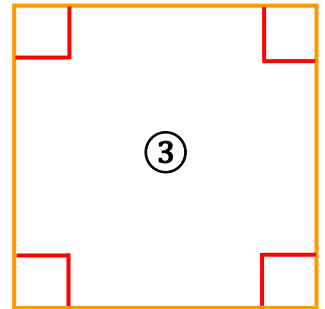
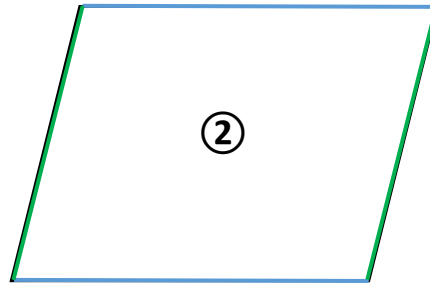



Géométrie : Quadrilatères : Identifier et décrire les carrés et les rectangles

Exercices

Correction

1) Pour chaque figure, repasse les côtés qui ont la même longueur de la même couleur. Puis, avec ton équerre, trouve les angles droits et marque-les.



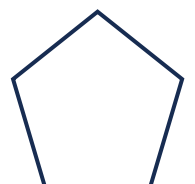








2) Complète le tableau par « oui » ou « non ».

	Je possède 4 angles droits.	Mes 4 côtés sont de la même longueur.
Figure ①	oui	non
Figure ②	non	non
Figure ③	oui	oui

3) Laquelle de ces figures est un rectangle ? La figure ① est un rectangle car elle possède 4 angles droits.

4) Laquelle de ces figures est un carré ? La figure ③ est un carré car elle possède 4 angles droits et 4 côtés de même longueur.

2) Marque d'une croix les figures qui ont 4 côtés (les quadrilatères) puis colorie en bleu les carrés et en jaune les rectangles.



Ce document PDF gratuit à imprimer est issu de la page :

- [Exercices 2eme Primaire Mathématiques : Géométrie - PDF à imprimer](#)

Le lien ci-dessous vous permet de télécharger cet exercice avec un énoncé vierge

- [Identifier et décrire les carrés et les rectangles - Exercices sur les quadrilatères : 2eme Primaire](#)

Découvrez d'autres exercices en : 2eme Primaire Mathématiques : Géométrie

- [Se repérer sur les nœuds et les cases d'un quadrillage - Exercices de géométrie : 2eme Primaire](#)
- [Vocabulaire des solides - Fiches Le cube et le pavé droit - Exercices de géométrie : 2eme Primaire](#)
- [Reconnaitre l'angle droit à l'aide de l'équerre - Exercices de géométrie : 2eme Primaire](#)
- [Tracer un triangle - Exercices de géométrie : 2eme Primaire](#)
- [Utiliser un outil de tracé, la règle - Exercices : 2eme Primaire](#)

Les exercices des catégories suivantes pourraient également vous intéresser :

- [Exercices 2eme Primaire Mathématiques : Géométrie Cercle et disque - PDF à imprimer](#)
- [Exercices 2eme Primaire Mathématiques : Géométrie Côté, sommet, angle - PDF à imprimer](#)
- [Exercices 2eme Primaire Mathématiques : Géométrie Point, droite et segment - PDF à imprimer](#)
- [Exercices 2eme Primaire Mathématiques : Géométrie Polygones - PDF à imprimer](#)
- [Exercices 2eme Primaire Mathématiques : Géométrie Quadrilatères - PDF à imprimer](#)

Besoin d'approfondir en : 2eme Primaire Mathématiques : Géométrie

- [Leçons 2eme Primaire Mathématiques : Géométrie](#)
- [Evaluations 2eme Primaire Mathématiques : Géométrie](#)
- [Evaluations / compétences 2eme Primaire Mathématiques : Géométrie](#)
- [Evaluations / QCM QUIZ 2eme Primaire Mathématiques : Géométrie](#)
- [Vidéos pédagogiques 2eme Primaire Mathématiques : Géométrie](#)