

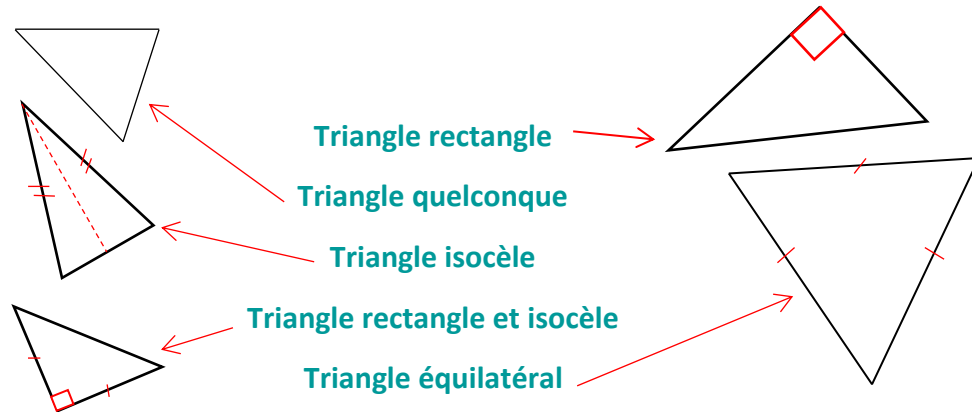


# Géométrie : Identifier, décrire et tracer des triangles

## Exercices

### Correction

1 Relie chaque triangle au nom qui lui correspond et code les figures selon leurs propriétés.



2 Complète les énigmes ci-dessous :

J'ai 3 côtés et un angle droit. Je suis **un triangle rectangle**.

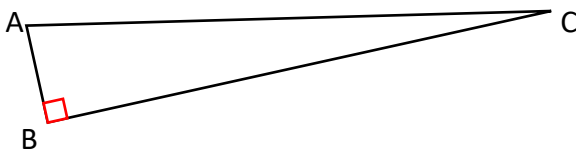
J'ai 3 sommets et 2 côtés égaux. Je suis **un triangle isocèle**.

J'ai 3 angles, 3 sommets et 3 côtés. Je suis **un triangle (quelconque)**.

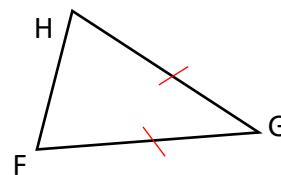
Je m'appelle MNO, mes côtés ont même mesure. Je suis **un triangle équilatéral**.

3 Trace :

Un triangle ABC rectangle en B

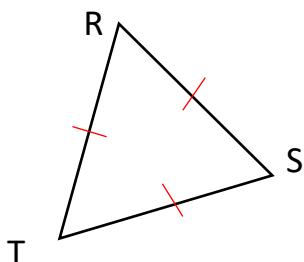


Un triangle isocèle FGH tel que  $FG=GH$

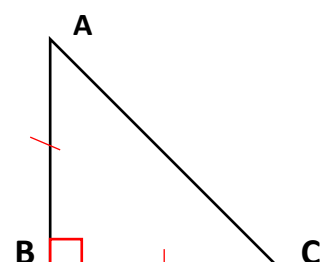


4 Trace

un triangle RST équilatéral de 3 cm de côté.



un triangle isocèle ABC rectangle en B et tel que  $[AB]=3\text{cm}$



Ce document PDF gratuit à imprimer est issu de la page :

- [Exercices 5eme Primaire Mathématiques : Géométrie Les triangles - PDF à imprimer](#)

Le lien ci-dessous vous permet de télécharger cet exercice avec un énoncé vierge

- [Identifier et décrire des triangles - Exercices de géométrie : 5eme Primaire](#)

Découvrez d'autres exercices en : 5eme Primaire Mathématiques : Géométrie Les triangles

- [Identifier et tracer des triangles - Exercices, révisions : 5eme Primaire](#)
- [Triangle - Construire les hauteurs - Exercices à imprimer : 5eme Primaire](#)
- [Construire les hauteurs d'un triangle - Exercices corrigés : 5eme Primaire](#)
- [Triangles rectangles, isocèles et équilatéraux - Exercices : 5eme Primaire](#)
- [Triangles - Exercices à imprimer : 5eme Primaire](#)

Les exercices des catégories suivantes pourraient également vous intéresser :

- [Exercices 5eme Primaire Mathématiques : Géométrie Agrandissement, réduction - PDF à imprimer](#)
- [Exercices 5eme Primaire Mathématiques : Géométrie Cercle et disque - PDF à imprimer](#)
- [Exercices 5eme Primaire Mathématiques : Géométrie Droites parallèles - PDF à imprimer](#)
- [Exercices 5eme Primaire Mathématiques : Géométrie Droites perpendiculaires - PDF à imprimer](#)
- [Exercices 5eme Primaire Mathématiques : Géométrie Les volumes - PDF à imprimer](#)

Besoin d'approfondir en : 5eme Primaire Mathématiques : Géométrie Les triangles

- [Leçons 5eme Primaire Mathématiques : Géométrie Les triangles](#)
- [Evaluations 5eme Primaire Mathématiques : Géométrie Les triangles](#)
- [Evaluations / compétences 5eme Primaire Mathématiques : Géométrie Les triangles](#)
- [Evaluations / QCM QUIZ 5eme Primaire Mathématiques : Géométrie Les triangles](#)
- [Vidéos pédagogiques 5eme Primaire Mathématiques : Géométrie Les triangles](#)