

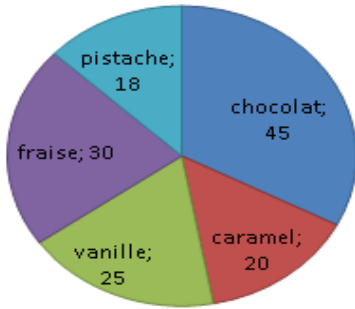


# Calcul: Lire et utiliser un graphique.

## Exercices

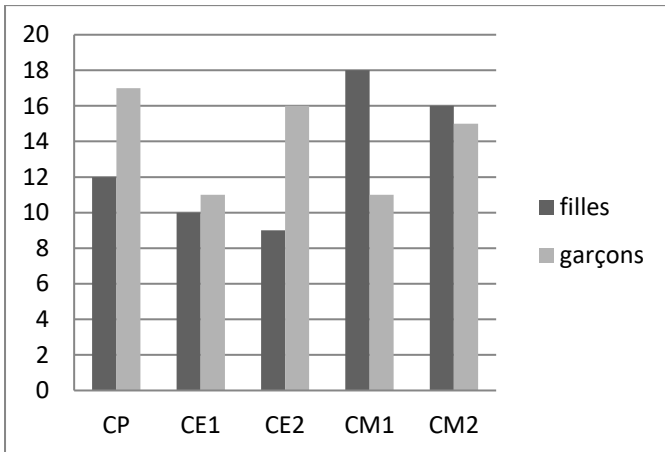
### Correction

1 Voici un diagramme représentant les parfums de glace préférés des enfants.



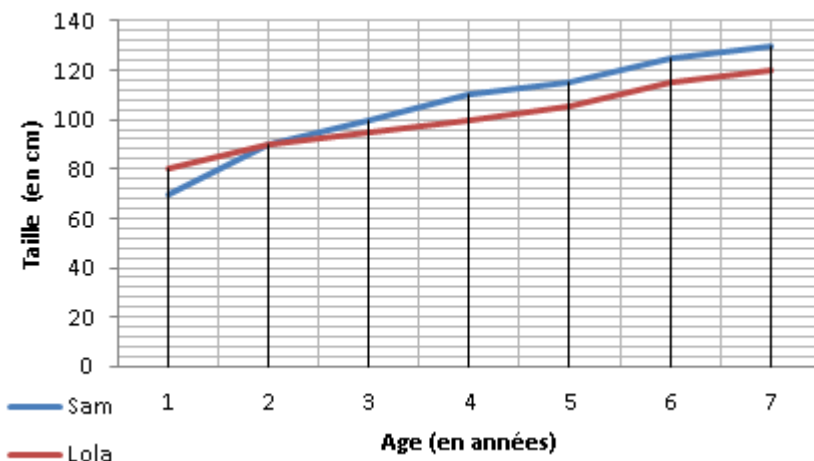
- a) Combien d'enfants au total ont donné leur avis ? **138 enfants**
- b) Quel est le parfum de glace le plus apprécié ? **le chocolat.**  
le moins apprécié ? **la pistache.**
- c) Complète :
- Les enfants préfèrent presque autant **la pistache** que **le caramel.**
  - Le nombre 30 correspond **au nombre d'enfants qui préfèrent la glace à la fraise.**

2 Voici un diagramme en bâton représentant la répartition des filles et des garçons par classe. Complète le tableau.



	CP	CE1	CE2	CM1	CM2	total
filles	12	10	9	18	16	65
garçons	17	11	16	11	15	70

3 Voici les courbes de croissance de Sam et Lola jusqu'à l'âge de 7ans. Réponds aux questions.



- Qui était le plus grand à 1an ? **Lola**
- A quel âge Lola et Sam avaient la même taille ? **A l'âge de 2 ans.**
- Combien mesurait Lola à 5 ans ? **105 cm**
- Qui mesurait 125 cm à 6 ans ? **Sam.**
- Combien de centimètres d'écart y avait-il entre eux à 7 ans ? **10 cm**
- Le graphe indique-t-il la taille de Sam et Lola à la naissance ? **non.**

Ce document PDF gratuit à imprimer est issu de la page :

- [Exercices 4eme Primaire Mathématiques : Gestion des données - PDF à imprimer](#)

Le lien ci-dessous vous permet de télécharger cet exercice avec un énoncé vierge

- [Lire utiliser et produire un graphique - Exercices de calcul : 4eme Primaire](#)

Découvrez d'autres exercices en : 4eme Primaire Mathématiques : Gestion des données

- [Les tableaux de proportionnalité - Exercices l'organisation et gestion des données : 4eme Primaire](#)
- [Lire utiliser et produire un tableau - Exercices de calcul : 4eme Primaire](#)
- [Produire un graphique - Exercices de calcul : 4eme Primaire](#)
- [Découvrir des situations de proportionnalité - Exercices de calcul : 4eme Primaire](#)
- [Lire, utiliser et produire un diagramme ou un graphique - Exercices, révisions à imprimer : 4eme, 5eme Primaire](#)

Les exercices des catégories suivantes pourraient également vous intéresser :

- [Exercices 4eme Primaire Mathématiques : Gestion des données Coordonnées d'un point - PDF à imprimer](#)
- [Exercices 4eme Primaire Mathématiques : Gestion des données Données et graphiques - PDF à imprimer](#)
- [Exercices 4eme Primaire Mathématiques : Gestion des données Proportionnalité - PDF à imprimer](#)
- [Exercices 4eme Primaire Mathématiques : Gestion des données Tableaux - PDF à imprimer](#)

Besoin d'approfondir en : 4eme Primaire Mathématiques : Gestion des données

- [Leçons 4eme Primaire Mathématiques : Gestion des données](#)
- [Evaluations 4eme Primaire Mathématiques : Gestion des données](#)
- [Evaluations / QCM QUIZ 4eme Primaire Mathématiques : Gestion des données](#)
- [Vidéos pédagogiques 4eme Primaire Mathématiques : Gestion des données](#)
- [Vidéos interactives 4eme Primaire Mathématiques : Gestion des données](#)