

# Grandeurs et Mesures : Calculer un périmètre (avec formules)



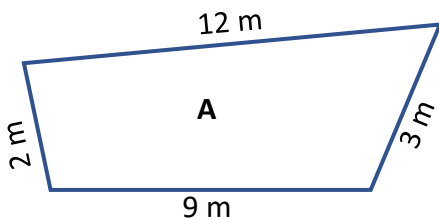
## Exercices

### Correction

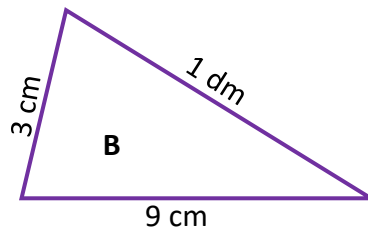
#### 1 Vrai ou faux ? Coche la réponse correcte.

- Pour calculer le périmètre d'un carré, on fait : côté + 4. ☐ vrai ☒ faux
- Le périmètre d'un carré dont le côté est de 4 m mesure 16 m. ☒ vrai ☐ faux
- Le périmètre d'un rectangle est égal à : (longueur + largeur) x 2 ☒ vrai ☐ faux
- Le périmètre d'un rectangle ayant une largeur de 9 cm et une longueur de 12 cm mesure 21 cm. ☐ vrai ☒ faux

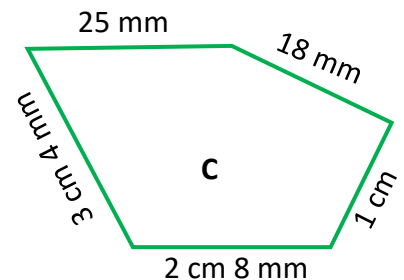
#### 2 Calcule le périmètre de ces figures.



$$P(A) = 12 + 3 + 9 + 2 = \underline{26 \text{ m}}$$



$$P(B) = 3 \text{ cm} + 9 \text{ cm} + 10 \text{ cm} (= 1 \text{ dm}) = \underline{22 \text{ cm}}$$



$$P(C) = 25 \text{ mm} + 18 \text{ mm} + 10 \text{ mm} (= 1 \text{ cm}) + 28 \text{ mm} (= 2 \text{ cm } 8 \text{ mm}) + 34 \text{ mm} (= 3 \text{ cm } 4 \text{ mm}) = \underline{115 \text{ mm}}$$

#### 3 Complète le tableau.

	Dimensions		Périmètre
Carré	côté	3 cm 5 mm	$P = 4 \times (3 \text{ cm } 5 \text{ mm}) = 12 \text{ cm} + 20 \text{ mm} = \underline{14 \text{ cm}}$
Rectangle	longueur	14 dm	$14 \text{ dm} = 140 \text{ cm}$
	largeur	80 cm	$\text{Donc } P = 2 \times (140 + 80) = 2 \times 220 = \underline{440 \text{ cm ou } 44 \text{ dm}}$

#### 4 Résous le problème suivant.



M. Dupré veut clôturer le pré pour ses moutons. Le pré mesure 34 m 80 cm de long sur 12 m 15 cm de large. Il pense laisser une entrée de 2 m de large.

Le pré a une forme rectangulaire donc  $P = 2 \times (L + l)$ .

$$34 \text{ m } 80 \text{ cm} = 3480 \text{ cm} \text{ et } 12 \text{ m } 15 \text{ cm} = 1215 \text{ cm}$$

$$P = 2 \times (3480 + 1215) = 2 \times 4695 = 9390 \text{ cm}$$

$$\text{On retire la largeur de l'entrée : } 9390 - 2 = 9388 \text{ cm}$$

De quelle longueur de grillage a-t-il besoin ?

Il a besoin de 93 m et 88 cm de grillage.

Ce document PDF gratuit à imprimer est issu de la page :

- [Exercices 5eme Primaire Mathématiques : Grandeurs / Mesures Périmètre - PDF à imprimer](#)

Le lien ci-dessous vous permet de télécharger cet exercice avec un énoncé vierge

- [Calculer un périmètre \(avec formules\) - Exercices de grandeurs et mesures : 5eme Primaire](#)

Découvrez d'autres exercices en : 5eme Primaire Mathématiques : Grandeurs / Mesures Périmètre

- [Calculer un périmètre \(sans mesure\) - Exercices de grandeurs et mesures : 5eme Primaire](#)
- [Mesurer le périmètre - Exercices, révisions : 5eme Primaire](#)
- [Comment identifier le périmètre d'une figure géométrique - Exercices avec correction : 5eme Primaire](#)
- [Comment distinguer l'aire et le périmètre - Exercices à imprimer : 5eme Primaire](#)
- [Aire et périmètre - Exercices corrigés : 5eme Primaire](#)

Les exercices des catégories suivantes pourraient également vous intéresser :

- [Exercices 5eme Primaire Mathématiques : Grandeurs / Mesures Angles - PDF à imprimer](#)
- [Exercices 5eme Primaire Mathématiques : Grandeurs / Mesures Contenance, capacité litre - PDF à imprimer](#)
- [Exercices 5eme Primaire Mathématiques : Grandeurs / Mesures Lire l'heure, horloge - PDF à imprimer](#)
- [Exercices 5eme Primaire Mathématiques : Grandeurs / Mesures Longueur cm, m, km - PDF à imprimer](#)
- [Exercices 5eme Primaire Mathématiques : Grandeurs / Mesures Masse g, kg - PDF à imprimer](#)

Besoin d'approfondir en : 5eme Primaire Mathématiques : Grandeurs / Mesures Périmètre

- [Leçons 5eme Primaire Mathématiques : Grandeurs / Mesures Périmètre](#)
- [Evaluations 5eme Primaire Mathématiques : Grandeurs / Mesures Périmètre](#)
- [Evaluations / compétences 5eme Primaire Mathématiques : Grandeurs / Mesures Périmètre](#)
- [Evaluations / QCM QUIZ 5eme Primaire Mathématiques : Grandeurs / Mesures Périmètre](#)
- [Vidéos pédagogiques 5eme Primaire Mathématiques : Grandeurs / Mesures Périmètre](#)