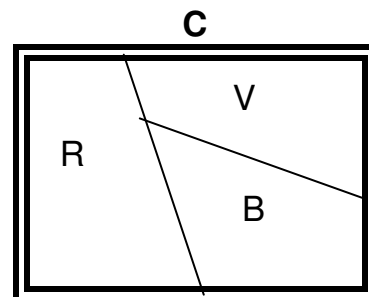
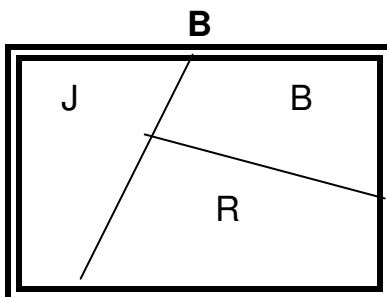
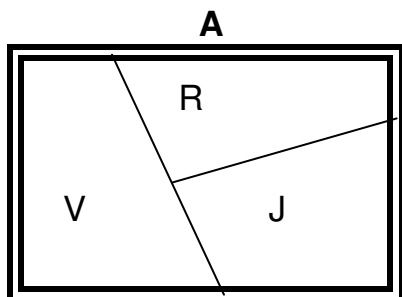


Prénom :

La belle peinture!

* Tu dois retrouver les peintres et leur tableau.



*Il faut d'abord colorier les tableaux:

B:bleu **J:**jaune **R:**rouge **V:**vert

1 - Maxence et Laurie ont utilisé du jaune.

2 - Dorian et Maxence ont utilisé du bleu.



	A	B	C
Dorian			
Maxence			
Laurie			

	tableau
Dorian	
Maxence	
Laurie	

Les copains

* Tu dois retrouver les couples de copains.

1 - Le copain de Michel a son prénom qui commence par un J.

2 - Le copain de Cédric a son prénom qui commence par un M.

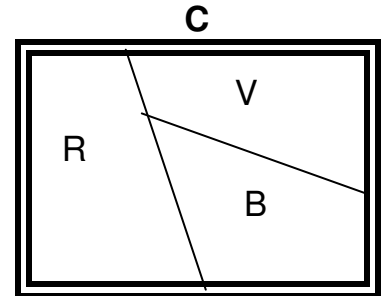
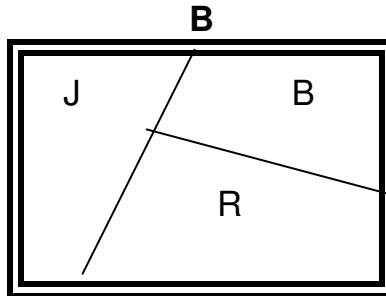
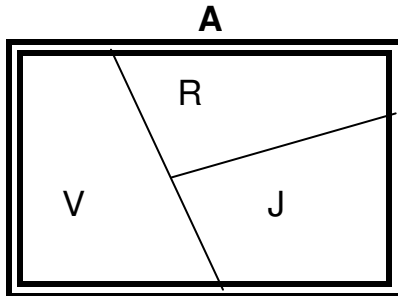
3 - Florian ne joue jamais avec Jérémie.

	Cédric	Julien	Jérémie
Florian			
Maxime			
Michel			

	copain
Florian	
Maxime	
Michel	

La belle peinture!

* Tu dois retrouver les peintres et leur tableau.



*Il faut d'abord colorier les tableaux:

B:bleu **J:**jaune **R:**rouge **V:**vert

1 - Maxence et Laurie ont utilisé du jaune.

2 - Dorian et Maxence ont utilisé du bleu.



	A	B	C
Dorian	X	X	0
Maxence	X	0	X
Laurie	0	X	X

	tableau
Dorian	C
Maxence	B
Laurie	A

Les copains

* Tu dois retrouver les couples de copains.

1 - Le copain de Michel a son prénom qui commence par un J.

2 - Le copain de Cédric a son prénom qui commence par un M.

3 - Florian ne joue jamais avec Jérémie.

	Cédric	Julien	Jérémie
Florian	X	0	X
Maxime	0	X	X
Michel	X	X	0


	copain
Florian	Julien
Maxime	Cédric
Michel	Jérémie

Prénom :

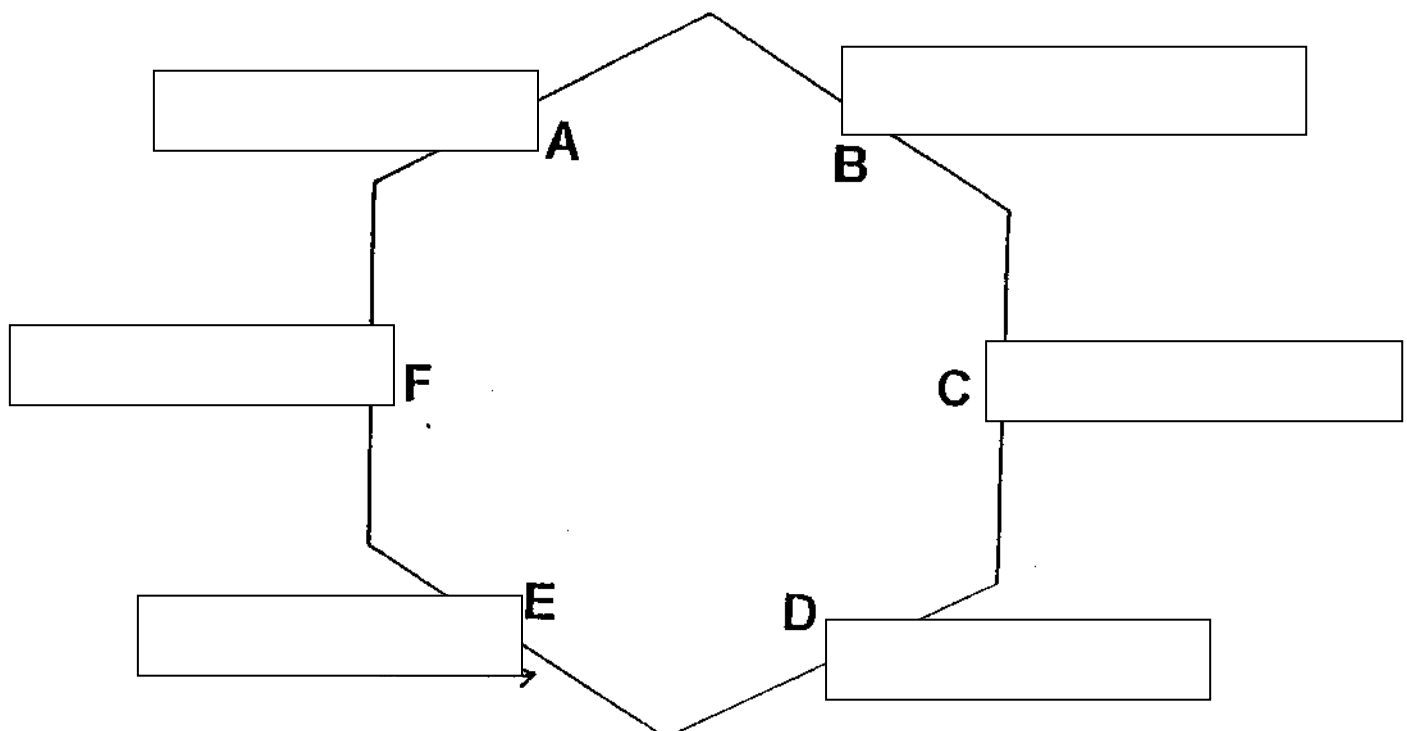
Tout le monde à table!

* Tu dois retrouver la place des enfants autour de la table.

- 1 - Barbara est assise en face de Solange.
- 2 - C'est un garçon qui est en F.
- 3 - Victor est à côté de Mélanie.
- 4 - Barbara est à droite de Sylvain.
- 5 - Antoine est en face de Mélanie.
- 6 - Sylvain est assis en E.
- 7 - Solange est assise entre Antoine et Victor..



	A	B	C	D	E	F
Mélanie						
Solange						
Victor						
Antoine						
Sylvain						
Barbara						



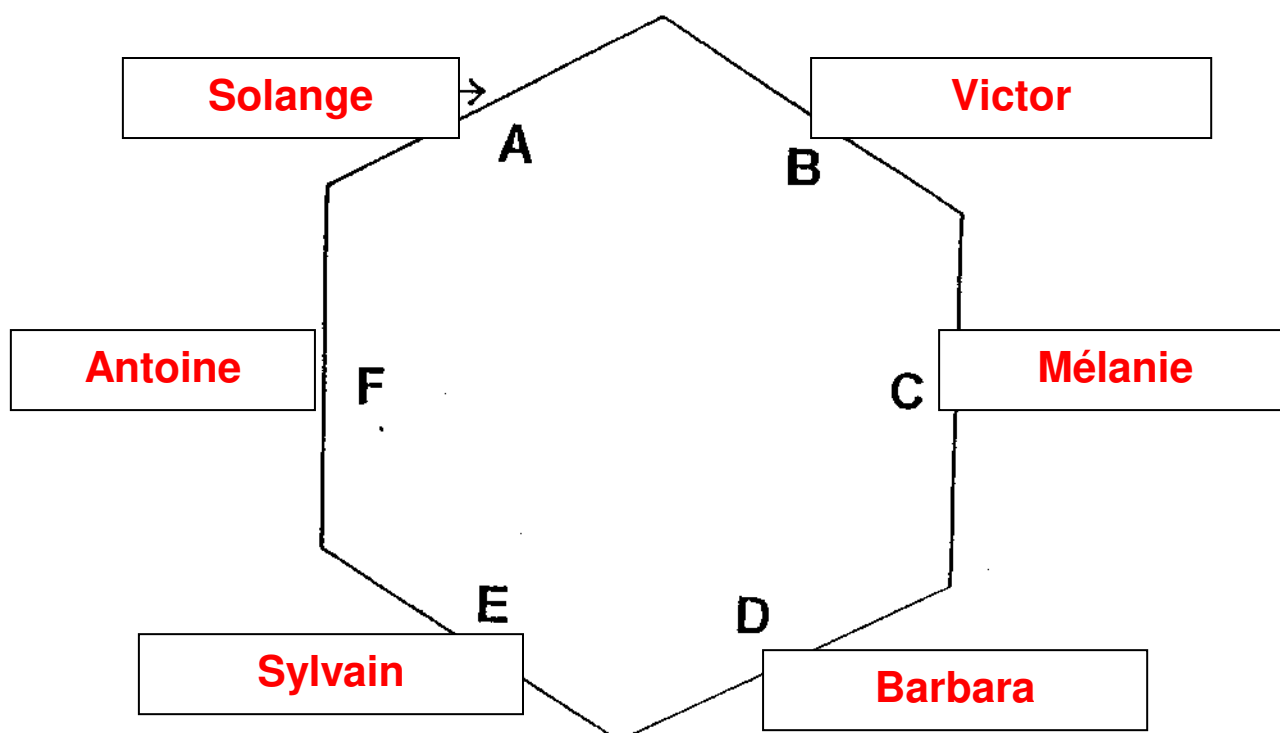
Tout le monde à table!

* Tu dois retrouver la place des enfants autour de la table.

- 1 - Barbara est assise en face de Solange.
- 2 - C'est un garçon qui est en F.
- 3 - Victor est à côté de Mélanie.
- 4 - Barbara est à droite de Sylvain.
- 5 - Antoine est en face de Mélanie.
- 6 - Sylvain est assis en E.
- 7 - Solange est assise entre Antoine et Victor..




	A	B	C	D	E	F
Mélanie	X	X	0	X	X	X
Solange	0	X	X	X	X	X
Victor	X	0	X	X	X	X
Antoine	X	X	X	X	X	0
Sylvain	X	X	X	X	0	X
Barbara	X	X	X	0	X	X




Prénom :

Photo de famille

* Tu dois retrouver les prénoms sur la photo de famille.




- 1 - Marc est derrière son frère.
- 2 - Sabine est à côté de son cousin Joël.
- 3 - Jean a toujours porté la barbe.
- 4 - Hervé est à côté de Marc.
- 5 - Rémi porte des lunettes mais pas Hervé.
- 6 - Tante Léontine a pris la photo.
- 7 - Lucette est devant Jean.
- 8 - Hervé n'a pas de poil au menton.
- 9 - Solène est près de Jean.




	A	B	C	D	E	F	G	H
Jean								
Marc								
Solène								
Rémi								
Hervé								
Lucette								
Joël								
Sabine								

Photo de famille

* Tu dois retrouver les prénoms sur la photo de famille.



- 1 - Marc est derrière son frère.
- 2 - Sabine est à côté de son cousin Joël.
- 3 - Jean a toujours porté la barbe.
- 4 - Hervé est à côté de Marc.
- 5 - Rémi porte des lunettes mais pas Hervé.
- 6 - Tante Léontine a pris la photo.
- 7 - Lucette est devant Jean.
- 8 - Hervé n'a pas de poil au menton.
- 9 - Solène est près de Jean.



	A	B	C	D	E	F	G	H
Jean	X	X	0	X	X	X	X	X
Marc	X	0	X	X	X	X	X	X
Solène	X	X	X	0	X	X	X	X
Rémi	X	X	X	X	X	X	X	0
Hervé	0	X	X	X	X	X	X	X
Lucette	X	X	X	X	X	X	0	X
Joël	X	X	X	X	X	0	X	X
Sabine	X	X	X	X	0	X	X	X

Ce document PDF gratuit à imprimer est issu de la page :

- [Exercices 3eme Primaire Mathématiques : Problème de logique - PDF à imprimer](#)

Le lien ci-dessous vous permet de télécharger cet exercice avec un énoncé vierge

- [Problèmes de logique - Mathématiques - Exercices et correction : 3eme Primaire](#)

Découvrez d'autres exercices en : 3eme Primaire Mathématiques : Problème de logique

- [Problèmes de logique : 3eme Primaire](#)
- [Logique - Problèmes à imprimer : 3eme Primaire](#)
- [Problèmes de logique - Exercices corrigés - Mathématiques : 3eme, 4eme Primaire](#)

Les exercices des catégories suivantes pourraient également vous intéresser :

- [Exercices 3eme Primaire Mathématiques : Autres problèmes - PDF à imprimer](#)
- [Exercices 3eme Primaire Mathématiques : Problème de Calculs - PDF à imprimer](#)
- [Exercices 3eme Primaire Mathématiques : Je lis et je résous des problèmes - PDF à imprimer](#)
- [Exercices 3eme Primaire Mathématiques : Problème de Mesures - PDF à imprimer](#)
- [Exercices 3eme Primaire Mathématiques : Problème de recherche d'informations - PDF à imprimer](#)