



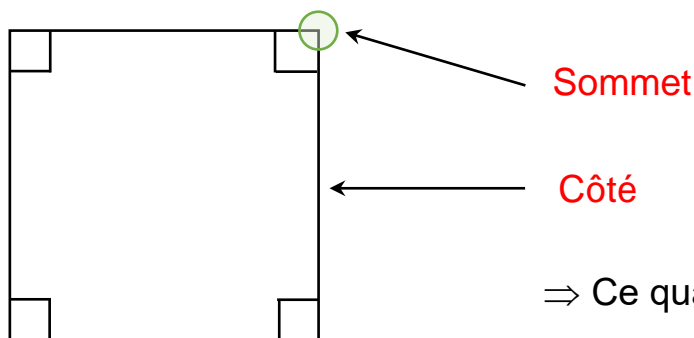
Géométrie : Identifier et décrire les quadrilatères

Correction

Exercices

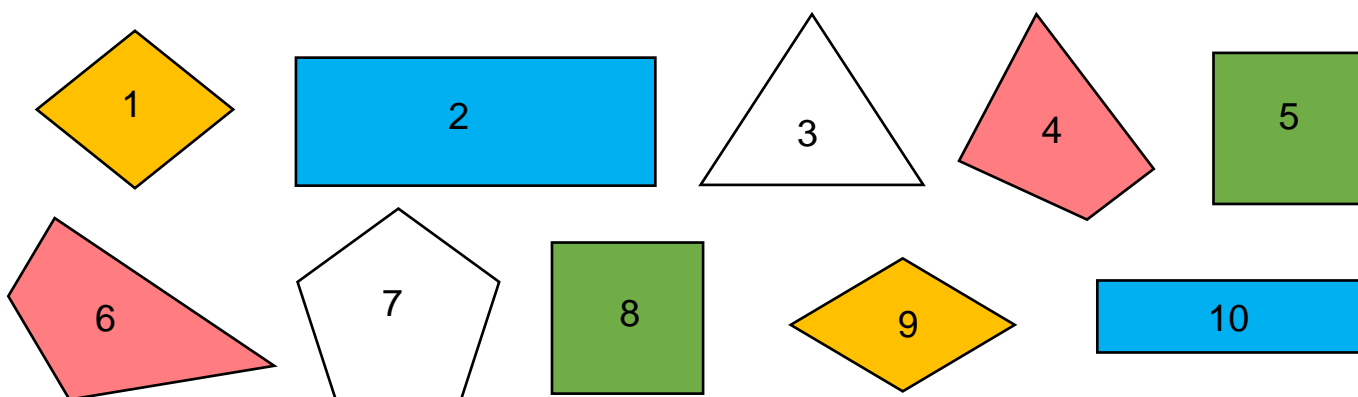
1 Complète la définition du quadrilatère et la légende de la figure.

Un quadrilatère est un **polygone** qui possède **4 côtés** et **4 sommets**.



⇒ Ce quadrilatère s'appelle un **carré**.

2 Observe ces polygones. Colorie uniquement les quadrilatères puis classe-les dans le tableau.



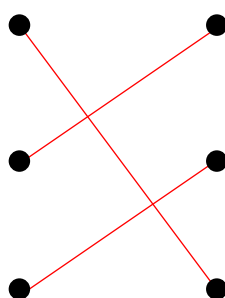
Rectangle	Losange	Carré	Quelconque
2 et 10	1 et 9	5 et 8	4 et 6

3 Relie chaque quadrilatère à sa description.

Je possède 4 côtés égaux. Je n'ai pas d'angle droit.

Je possède 4 côtés égaux et 4 angles droits.

J'ai 4 angles droits. Tous mes côtés ne sont pas égaux.



Je suis le carré.

Je suis le rectangle.

Je suis le losange.

Ce document PDF gratuit à imprimer est issu de la page :

- [Exercices 3eme Primaire Mathématiques : Géométrie Quadrilatères - PDF à imprimer](#)

Le lien ci-dessous vous permet de télécharger cet exercice avec un énoncé vierge

- [Identifier et décrire les quadrilatères - Exercices de géométrie : 3eme Primaire](#)

Découvrez d'autres exercices en : 3eme Primaire Mathématiques : Géométrie Quadrilatères

- [Tracer des quadrilatères - Exercices de géométrie : 3eme Primaire](#)
- [Identifier et tracer des quadrilatères - Fiches le rectangle et le carré - Exercices avec les corrigés : 3eme Primaire](#)
- [Tracer des quadrilatères - Fiches le rectangle et le carré - Exercices, révisions : 3eme Primaire](#)
- [Identifier et décrire les quadrilatères \(rectangles et carrés\) - Exercices, révisions : 3eme Primaire](#)
- [Quadrilatères - Exercices corrigés - Géométrie : 3eme Primaire](#)

Les exercices des catégories suivantes pourraient également vous intéresser :

- [Exercices 3eme Primaire Mathématiques : Géométrie Cercle et disque - PDF à imprimer](#)
- [Exercices 3eme Primaire Mathématiques : Géométrie Côté, sommet, angle - PDF à imprimer](#)
- [Exercices 3eme Primaire Mathématiques : Géométrie Droites parallèles - PDF à imprimer](#)
- [Exercices 3eme Primaire Mathématiques : Géométrie Droites perpendiculaires - PDF à imprimer](#)
- [Exercices 3eme Primaire Mathématiques : Géométrie Point, droite et segment - PDF à imprimer](#)

Besoin d'approfondir en : 3eme Primaire Mathématiques : Géométrie Quadrilatères

- [Leçons 3eme Primaire Mathématiques : Géométrie Quadrilatères](#)
- [Evaluations 3eme Primaire Mathématiques : Géométrie Quadrilatères](#)
- [Evaluations / compétences 3eme Primaire Mathématiques : Géométrie Quadrilatères](#)
- [Evaluations / QCM QUIZ 3eme Primaire Mathématiques : Géométrie Quadrilatères](#)
- [Vidéos interactives 3eme Primaire Mathématiques : Géométrie Quadrilatères](#)