

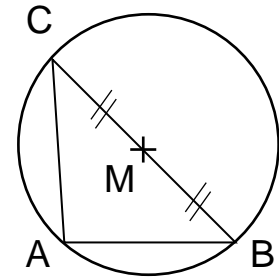
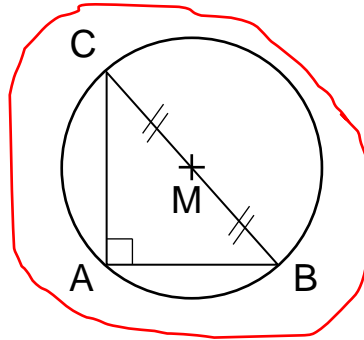
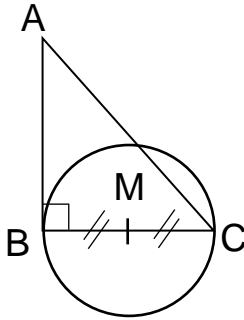


Géométrie : Décrire et reproduire une figure

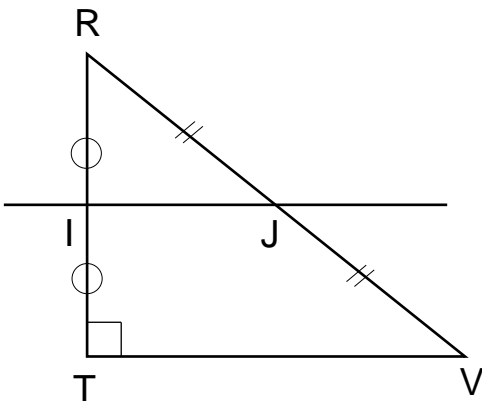
Exercices

Correction

- 1 Entoure la figure qui correspond au programme de construction : trace un triangle ABC rectangle en A. Trace le milieu M de [BC] et trace le cercle de centre M et de rayon MB.



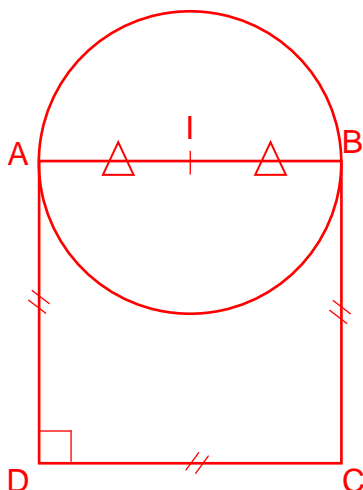
- 2 Complète le programme de construction de la figure suivante en utilisant les mots suivants : triangle / milieu / droite / rectangle. Ajoute également les longueurs demandées et précise leur unité.



- Trace le triangle RTV rectangle en T tel que $TV = 5 \text{ cm}$ et $TR = 4 \text{ cm}$.
- Trace le milieu I de [RT] et le milieu J de [RV].
- Trace la droite (IJ).

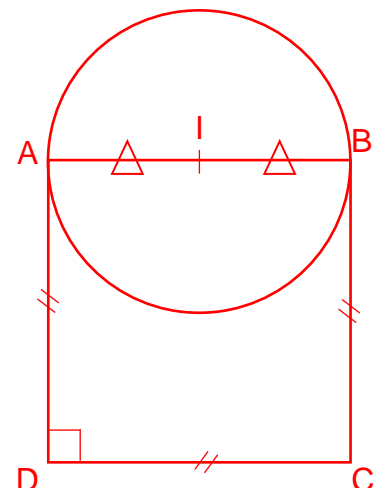
- 3 Lis le programme de construction suivant : trace le carré ABCD tel que $AB = 4 \text{ cm}$. Trace le milieu I de [AB] et trace un cercle de centre I et de rayon AB.

Fais une figure à main levée et donne la liste des 3 outils que tu vas utiliser :



Règle
Equerre
Compas

Trace la figure avec les outils :



Ce document PDF gratuit à imprimer est issu de la page :

- [Exercices 3eme Primaire Mathématiques : Géométrie Reproduire des figures - PDF à imprimer](#)

Le lien ci-dessous vous permet de télécharger cet exercice avec un énoncé vierge

- [Décrire et reproduire une figure - Exercices de géométrie : 3eme Primaire](#)

Découvrez d'autres exercices en : 3eme Primaire Mathématiques : Géométrie Reproduire des figures

- [Construire une figure à partir d'un programme de construction - Exercices, révisions : 3eme Primaire](#)
- [Reproduire une figure - Exercices corrigés : 3eme Primaire](#)

Les exercices des catégories suivantes pourraient également vous intéresser :

- [Exercices 3eme Primaire Mathématiques : Géométrie Cercle et disque - PDF à imprimer](#)
- [Exercices 3eme Primaire Mathématiques : Géométrie Côté, sommet, angle - PDF à imprimer](#)
- [Exercices 3eme Primaire Mathématiques : Géométrie Droites parallèles - PDF à imprimer](#)
- [Exercices 3eme Primaire Mathématiques : Géométrie Droites perpendiculaires - PDF à imprimer](#)
- [Exercices 3eme Primaire Mathématiques : Géométrie Point, droite et segment - PDF à imprimer](#)

Besoin d'approfondir en : 3eme Primaire Mathématiques : Géométrie Reproduire des figures

- [Leçons 3eme Primaire Mathématiques : Géométrie Reproduire des figures](#)
- [Evaluations 3eme Primaire Mathématiques : Géométrie Reproduire des figures](#)
- [Evaluations / compétences 3eme Primaire Mathématiques : Géométrie Reproduire des figures](#)