



Géométrie : Connaitre le vocabulaire et les instruments de géométrie


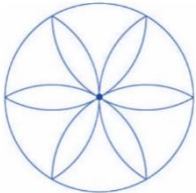
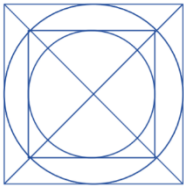
Exercices

Correction

1 Relie les instruments à leur(s) fonction(s).

- | | |
|-----------|--|
| La règle | • permet de vérifier si des droites sont perpendiculaires. |
| Le compas | • permet de tracer des arcs de cercle. |
| L'équerre | • permet de vérifier que des points sont alignés. |
| | • permet de comparer deux longueurs. |
| | • permet de mesurer des segments. |

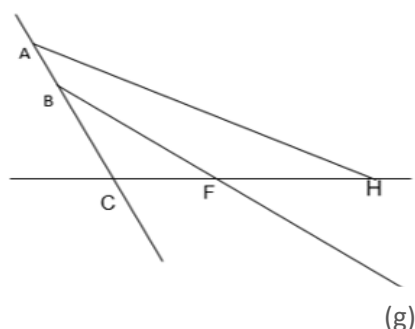
2 Indique les instruments dont tu as besoin pour tracer les figures suivantes. Justifie-toi.

		
Une règle (pour les segments), une équerre (pour tracer les droites perpendiculaires), un compas (pour reporter les longueurs des côtés).	Un compas pour tracer le cercle et les arcs de cercle.	Une règle (pour les segments), une équerre (pour tracer les droites perpendiculaires), un compas (pour tracer les cercles).

3 Qui suis-je ? Réponds aux devinettes suivantes.

- On me note avec une lettre majuscule. Je suis **un point**.
- On me note avec 2 lettres majuscules entre crochets. Je suis **un segment**.
- On me note avec 2 lettres majuscules ou 1 lettre minuscule entre parenthèses. Je suis **une droite**.

4 Observe la figure ci-dessous et complète.



- Nomme une droite : (g), (CF)
- Nomme trois segments : [AB], [AH], [AC], [BF], [CF], [CH] ou [FH].
- Nomme 5 points : A, B, C, F, H.
- Nomme 3 points alignés : A, B, C ou C, F, H.
- Nomme 2 droites sécantes et leur point d'intersection : (AC) et (CH) : C ; ou (g) et (CH) : F ; ou (AH) et (CH) : H

Ce document PDF gratuit à imprimer est issu de la page :

- [Exercices 5eme Primaire Mathématiques : Géométrie Vocabulaire de géométrie - PDF à imprimer](#)

Le lien ci-dessous vous permet de télécharger cet exercice avec un énoncé vierge

- [Connaitre le vocabulaire et les instruments de géométrie - Exercices de géométrie : 5eme Primaire](#)

Découvrez d'autres exercices en : 5eme Primaire Mathématiques : Géométrie Vocabulaire de géométrie

- [Instruments et le vocabulaire de géométrie - Exercices, révisions : 5eme Primaire](#)
- [Connaître et utiliser le vocabulaire de géométrie - Exercices à imprimer : 5eme Primaire](#)

Les exercices des catégories suivantes pourraient également vous intéresser :

- [Exercices 5eme Primaire Mathématiques : Géométrie Agrandissement, réduction - PDF à imprimer](#)
- [Exercices 5eme Primaire Mathématiques : Géométrie Cercle et disque - PDF à imprimer](#)
- [Exercices 5eme Primaire Mathématiques : Géométrie Droites parallèles - PDF à imprimer](#)
- [Exercices 5eme Primaire Mathématiques : Géométrie Droites perpendiculaires - PDF à imprimer](#)
- [Exercices 5eme Primaire Mathématiques : Géométrie Les volumes - PDF à imprimer](#)

Besoin d'approfondir en : 5eme Primaire Mathématiques : Géométrie Vocabulaire de géométrie

- [Leçons 5eme Primaire Mathématiques : Géométrie Vocabulaire de géométrie](#)
- [Evaluations 5eme Primaire Mathématiques : Géométrie Vocabulaire de géométrie](#)
- [Evaluations / compétences 5eme Primaire Mathématiques : Géométrie Vocabulaire de géométrie](#)
- [Evaluations / QCM QUIZ 5eme Primaire Mathématiques : Géométrie Vocabulaire de géométrie](#)
- [Séquence / Fiche de prep 5eme Primaire Mathématiques : Géométrie Vocabulaire de géométrie](#)