



Evaluation géométrie : identifier et décrire les polygones

CE2

Compétences évaluées

A

EA

NA

Correction

Connaître les caractéristiques des polygones

Reconnaître un polygone

Compter le nombre de côtés d'un polygone.

1 Coche la bonne réponse

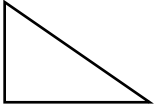


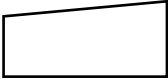
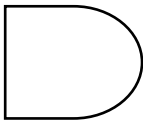

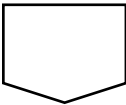
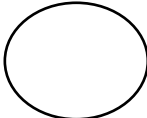
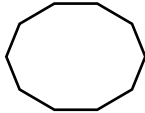

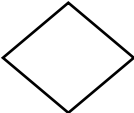
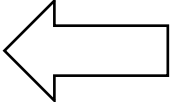
Un polygone est une figure ☐ ouverte ☒ fermée.

Les côtés des polygones sont des lignes ☒ segments ☐ courbes






Un polygone a au moins ☐ 1 côté ☐ 2 côtés ☒ 3 côtés.

Un polygone qui a 4 côtés est ☐ un triangle ☒ un quadrilatère ☐ un hexagone

2 Quelles figures sont des polygones ?

<input checked="" type="checkbox"/> 	<input type="checkbox"/> 	<input type="checkbox"/> 	<input checked="" type="checkbox"/> 
<input type="checkbox"/> 	<input checked="" type="checkbox"/> 	<input checked="" type="checkbox"/> 	<input type="checkbox"/> 
<input checked="" type="checkbox"/> 	<input type="checkbox"/> 	<input checked="" type="checkbox"/> 	<input checked="" type="checkbox"/> 

3 Compte le nombre de côtés de chacun des polygones puis coche la bonne case.

	<input type="checkbox"/> 4 côtés	<input checked="" type="checkbox"/> 5 côtés	<input type="checkbox"/> 6 côtés
	<input checked="" type="checkbox"/> 3 côtés	<input type="checkbox"/> 4 côtés	<input type="checkbox"/> 5 côtés
	<input type="checkbox"/> 6 côtés	<input type="checkbox"/> 7 côtés	<input checked="" type="checkbox"/> 8 côtés
	<input checked="" type="checkbox"/> 4 côtés	<input type="checkbox"/> 5 côtés	<input type="checkbox"/> 6 côtés
	<input type="checkbox"/> 8 côtés	<input checked="" type="checkbox"/> 10 côtés	<input type="checkbox"/> 12 côtés

Ce document PDF gratuit à imprimer est issu de la page :

- [Evaluations QCM / QUIZ 3eme Primaire Mathématiques : Géométrie Polygones - PDF à imprimer](#)

Le lien ci-dessous vous permet de télécharger ce QCM / QUIZ avec un énoncé vierge

- [Identifier et décrire les polygones - Examen Evaluation- Fiches QCM - Quiz à imprimer : 3eme Primaire](#)

Les QCM / QUIZ des catégories suivantes pourraient également vous intéresser :

- [Evaluations QCM / QUIZ 3eme Primaire Mathématiques : Géométrie Cercle et disque - PDF à imprimer](#)
- [Evaluations QCM / QUIZ 3eme Primaire Mathématiques : Géométrie Quadrilatères - PDF à imprimer](#)
- [Evaluations QCM / QUIZ 3eme Primaire Mathématiques : Géométrie Se repérer, déplacer / plan, carte - PDF à imprimer](#)
- [Evaluations QCM / QUIZ 3eme Primaire Mathématiques : Géométrie Solides et patrons - PDF à imprimer](#)
- [Evaluations QCM / QUIZ 3eme Primaire Mathématiques : Géométrie Symétrie axiale - PDF à imprimer](#)

Besoin d'approfondir en : 3eme Primaire Mathématiques : Géométrie Polygones

- [Leçons 3eme Primaire Mathématiques : Géométrie Polygones](#)
- [Exercices 3eme Primaire Mathématiques : Géométrie Polygones](#)
- [Evaluations 3eme Primaire Mathématiques : Géométrie Polygones](#)
- [Séquence / Fiche de prep 3eme Primaire Mathématiques : Géométrie Polygones](#)
- [Fiche Question / Réponse 3eme Primaire Mathématiques : Géométrie Polygones](#)